

LKPD

Matematika

Tema: Mengenal Pecahan

Nama: _____ Kelas: _____



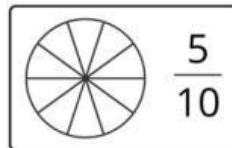
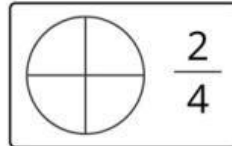
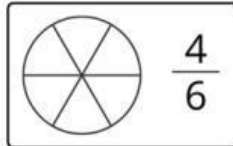
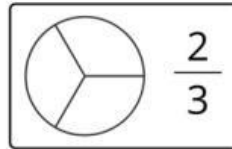
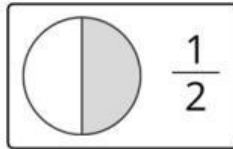
BELAJAR MENENTUKAN PECAHAN



Nama: _____

Kelas: _____

Ayo belajar tentang pecahan! Warnai pecahan sesuai dengan nilai pecahan yang tertera dengan tepat.

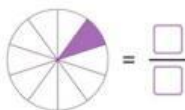
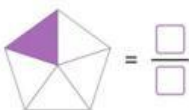
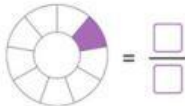
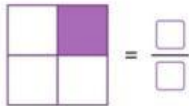
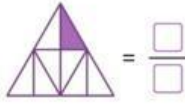
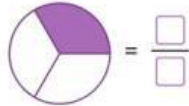
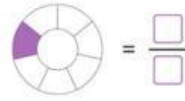
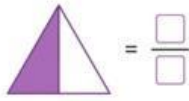


Nama :

Kelas :

Pecahan dengan Pembilang Satu

Tuliskan bentuk pecahan dari gambar yang diarsir dari keseluruhan berikut dengan tepat!



Nama :

Kelas :

BILANGAN PECAHAN

Pasangkanlah gambar di sebelah kiri dengan bilangan pecahan yang sesuai!



$$\frac{1}{3}$$



$$\frac{3}{6}$$



$$\frac{3}{7}$$



$$\frac{1}{2}$$



$$\frac{1}{9}$$



$$\frac{2}{10}$$