

NAMA : AKMAL, S.Pd

UNIT KERJA : SDN 18 BALAESANG TANJUNG



NAMA :


KELAS :

LEMBAR KERJA PESERTA DIDIK

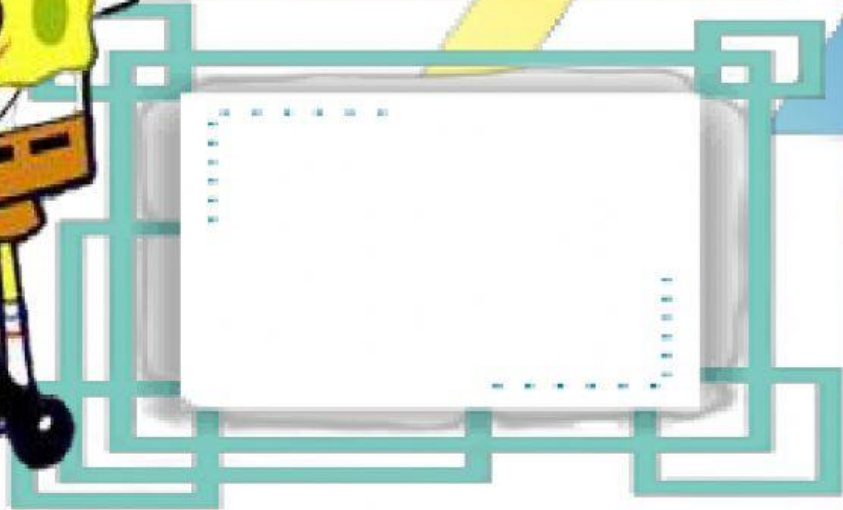


TEMA : ORGAN GERAK HEWAN DAN MANUSIA

SUB TEMA : ORGAN GERAK DAN KLASIFIKASI HEWAN




SIMAKLAH VIDIO MATERI BERIKUT..!



SIMAKLAH REKAMAN MATERI BERIKUT..!

TULISKAN KOMENTAR KALIAN MENGENAI MATERI




KERTAKAN SOAL BERIKUT !



1. Gambar disamping merupakan hewan yang bertulang belakang.

Hewan yang bertulang belakang disebut..

2. Manakah hewan dibawah ini yang termasuk hewan mamalia...



3. Berilah tanda centang pada lingkaran kolom gambar di bawah ini yang termasuk hewan moluska.!





4. Tariklah garis dari kotak kolom A kearah kotak kolom B yang menjadi pasangannya!

A



B

PISES

AVES

INSEKTA

5. Klik/sentuh gambar, kemudian geser dan lepas didalam kolom yang sesuai dgn jenis hewan tersebut!

REPTIL

MOLUSKA

AVERTEBRATA

