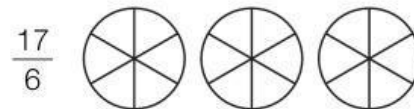
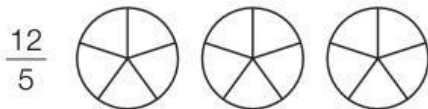
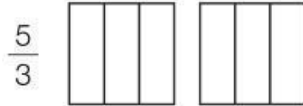



# Fracciones propias, impropias e iguales a la unidad

**1** Representa cada fracción y contesta.



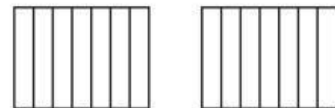
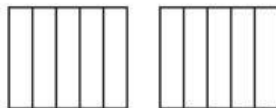

- ¿Qué fracción representa una unidad?
- ¿Cuál es menor que la unidad? ¿Cómo se llama este tipo de fracción?
- ¿Cuáles son mayores que la unidad? ¿Cómo se llaman estas fracciones?

**2** Escribe cada número mixto en forma de fracción y represéntala gráficamente.

(A)  $1\frac{1}{3} =$


(B)  $1\frac{2}{5} =$

(C)  $1\frac{6}{7} =$



**3** Une cada fracción con su representación y el número mixto correspondiente.

$\frac{5}{2}$




$2\frac{1}{5}$

$\frac{6}{4}$



$2\frac{1}{2}$

$\frac{11}{5}$



$1\frac{2}{4}$