

ESCUELA DE EDUCACION GENERAL BÁSICA  
"BEATRIZ MEJIA "

CÓDIGO AMIE: 08H02158

Recinto Charcopa -La unión -Quininde

Email: [holgern.zambrano@educacion.gob.ec](mailto:holgern.zambrano@educacion.gob.ec)  
Quinindé-Esmeraldas

<b>Estudiante:</b>		<b>Grado:</b>	
<b>Docente:</b>	Lcdo. Mgs. Holger Zambrano		
<b>Asignatura:</b>	Matemática	<b>Año lectivo:</b>	2025/2026

CUESTIONARIO

CUESTIONARIO DEL TERCER TRIMESTRE

Instrucciones: Lea atentamente cada pregunta, y asegúrese de entender lo que se le pide antes de responder.

1. Resuelva las siguientes sumas.

D	U
2	8

$$\underline{\quad} + \underline{\quad} = \underline{\quad}$$

D	U
5	2

$$\underline{\quad} + \underline{\quad} = \underline{\quad}$$

D	U
1	7

$$\underline{\quad} + \underline{\quad} = \underline{\quad}$$


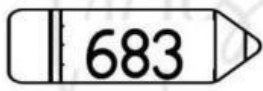
2. Escriba los siguientes números antes y después.

Antes

Después

_____	28	_____
_____	19	_____
_____	3	_____
_____	21	_____

3. Escriba el siguiente valor posicional.

	Centenas	Decenas	Unidades
 486			
 219			
 683			

4. Resuelva la siguiente tabla

Colorea de rojo los resultados que pertenecen a la tabla del 2

2	3	12	27	8	9	15
7	13	8	18	15	16	4
3	14	4	21	32	6	10
9	12	15	44	30	21	34
18	31	40	39	12	43	18



5.

Resuelve las siguientes multiplicaciones haciendo uso del algoritmo convencional, después colorea el dibujo según el resultado

Rojo	Amarillo	Azul	Gris	Verde	Morado
$\begin{array}{r} 134 \\ \times 2 \\ \hline \end{array}$	$\begin{array}{r} 42 \\ \times 2 \\ \hline \end{array}$	$\begin{array}{r} 34 \\ \times 2 \\ \hline \end{array}$	$\begin{array}{r} 89 \\ \times 2 \\ \hline \end{array}$	$\begin{array}{r} 72 \\ \times 2 \\ \hline \end{array}$	$\begin{array}{r} 49 \\ \times 2 \\ \hline \end{array}$

6.

Ayuda a león a realizar las siguientes multiplicaciones



3 x 1	
3 x 2	
3 x 3	
3 x 4	
3 x 5	
3 x 6	
3 x 7	
3 x 8	
3 x 9	
3 x 10	



7.




**CUENTA** y escribe en las estrellas de abajo el número que corresponde.



8.



**¿Qué hora es?**



⋮





⋮



⋮

9. Resuelva lo siguiente utilizando : unidad , decena, centena

	c	d	u	Número formado
	c	d	u	Número formado

<p><b>Lcda. Mgs. Estefania Posligua</b> DOCENTE</p>	<p><b>Lcdo. Mgs. Holger Zambrano</b> DIRECTOR</p>	
<p>Fecha:</p>	<p>Fecha:</p>	<p>Fecha:</p>