

Lembar Kerja Peserta Didik

# LKPD

Pembelahan Sel



Nama: \_\_\_\_\_

Kelas: \_\_\_\_\_

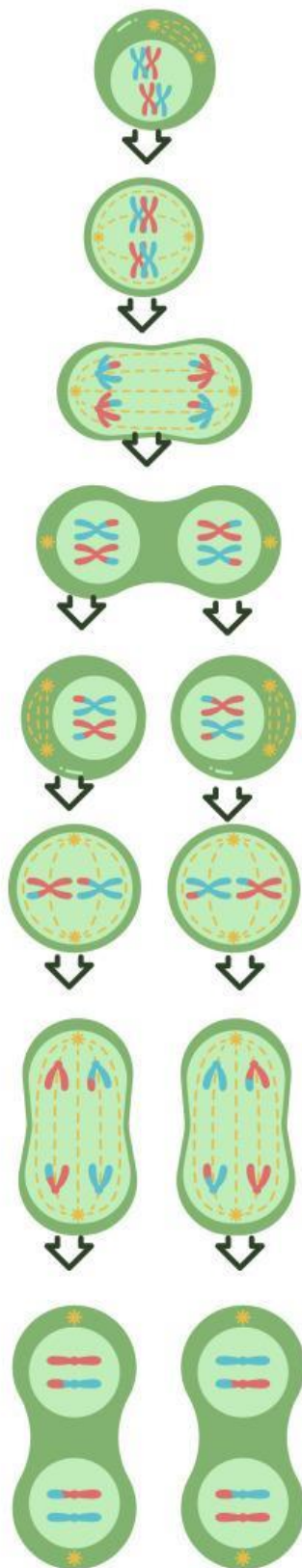
Sekolah: \_\_\_\_\_

# Identifikasi Fase-Fase Pembelahan Sel

## Instruksi

1. Amati dengan cermat urutan gambar tahapan pembelahan meiosis dan mitosis pada modul.
2. Baca setiap pilihan nama tahapan yang tersedia.
3. Tarik garis panah dari gambar ke kotak jawaban yang sesuai.
4. Setelah semua misi selesai, klik tombol Finish.
5. Isi data diri (nama, kelas, dan nomor absen) dengan lengkap dan benar. Klik Send untuk mengirim jawaban kepada guru.

# PEMBELAHAN MEIOSIS



**ANAFASE I**

**METAFASE II**

**ANAFASE II**

**METAFASE I**

**PROFASE II**

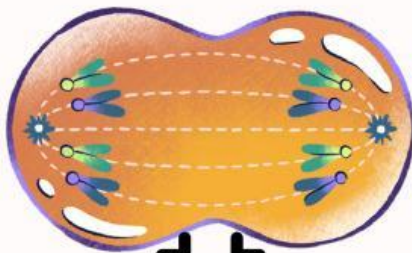
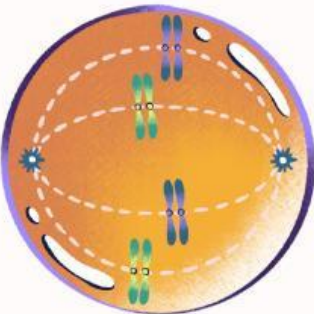

**PROFASE I**

**TELOFASE II**

**TELOFASE I**



# PEMBELAHAN MITOSIS



**ANAFASE**

**METAFASE**

**TELOFASE**

**SITOKINESIS**