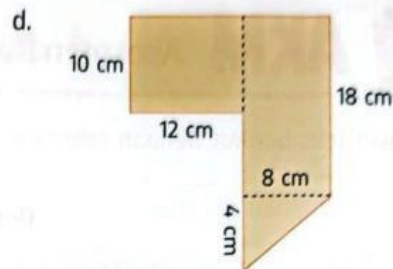
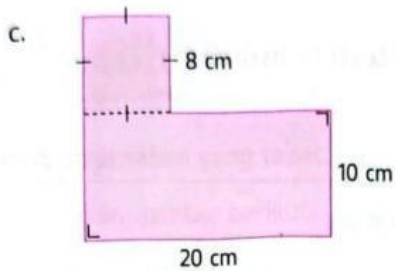
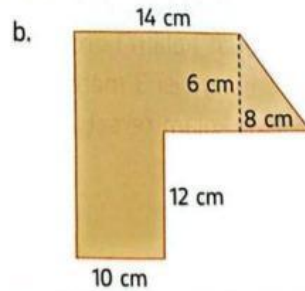
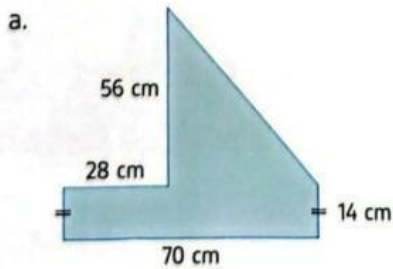
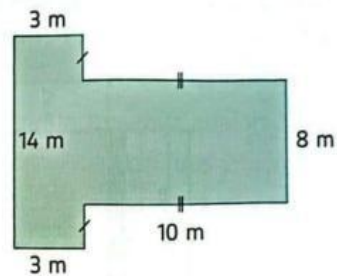


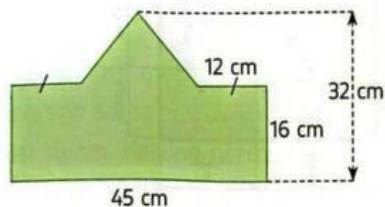
1. Tentukan luas gabungan bangun datar berikut.



2. Permukaan sebuah kolam renang memiliki bentuk seperti gambar di samping. Tentukan keliling dan luas permukaan kolam renang tersebut.

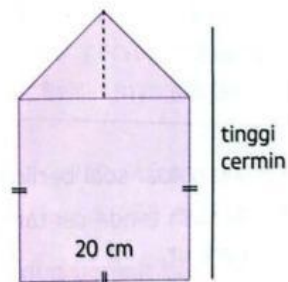


3. Perhatikan gambar berikut.



Sebuah bingkai foto berbentuk seperti gambar di samping. Tentukan luasnya.

4. Sebuah cermin dengan bentuk seperti gambar di samping memiliki luas permukaan 520 cm^2 . Tentukan tinggi cermin tersebut.



5. Pak Adit memiliki dua petak kebun bersebelahan yang jika digabung memiliki bentuk seperti gambar di samping. Jika keliling kebun yang berbentuk persegi panjang adalah 48 m, tentukan luas seluruh kebun milik Pak Adit tersebut.

