


School Time

TEMA 7

NAMA / KELAS :

A. Input Video

Simaklah Video Berikut Ini !



B. INPUT MP3

Dengarkan rekaman berikut, dengan cara klik tanda ►




School

School Bus

C. Drop Down

**Perhatikan Gambar berikut !
Luas bidang pada gambar adalah**

....




D. Pilihan Ganda

Contoh produk olahan kedelai yaitu



E. Kotak Centang

Berilah tanda centang pada sikap yang perlu ditiru berikut ini !



Perang antarsuku bangsa

Memperkaya wawasan





Memaksakan kehendak

Menghargai perbedaan

F. Menjodohkan dengan garis


Tariklah garis pada arti kata-kata berikut yang sesuai !

	Daya tahan artinya...
	Teknologi artinya...
	Pengemasan artinya...
	Kedap udara artinya...

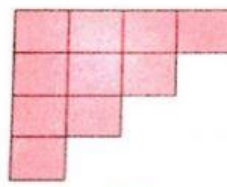
Membungkus	
Rapat sekali atau tertutup rapat	
Kemampuan bertahan dari pengaruh yang dapat merugikan	
Sarana untuk menyediakan barang-barang yang diperlukan bagi manusia	

G. Drag and Drop


Klik/sentuh jawaban, kemudian geser dan lepas di atas isian soal yang tersedia agar menjadi jawaban yang tepat!



A



B



C

- Luas Bidang A adalah .  . satuan
- Luas yang paling kecil adalah bidang 
- Luas yang paling besar adalah bidang 

7	8
A	
B	C