



Observa, atentamente, os mapas que representam os vazios humanos existentes no mundo.



Figura 1

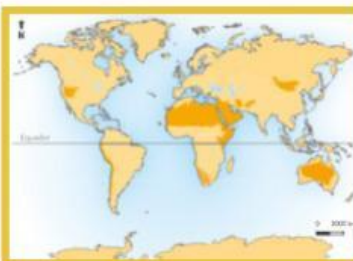


Figura 2

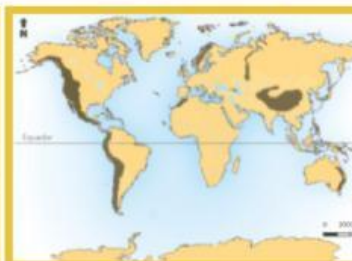


Figura 3

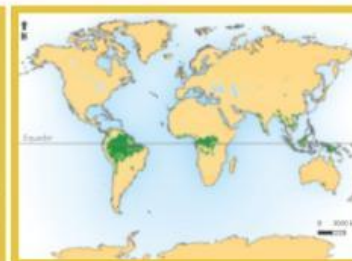


Figura 4



Identifica o nome dos vazios humanos apresentados em cada uma das figuras 1, 2, 3 e 4.

Figura 1

Figura 2

Figura 3

Figura 4



Faz corresponder os vazios humanos (figuras 1, 2, 3 e 4) aos respetivos fatores físicos e humanos.

Vazio Humano

Fatores físicos e humanos



Clima hostil muito quente e seco; escassez de vegetação e de água; ocorrência de tempestade de areia.



Clima muito quente e húmido; grande densidade de vegetação; solos pobres que não possibilitam uma grande diversidade de produtos agrícolas.



Clima hostil muito frio, seco e com ventos fortes; solo quase permanentemente gelado; longos períodos com pouca luz solar.



Acentuada irregularidade do terreno e à presença de neve; produção agrícola difícil devido à pobreza do solo, ao relevo acidentado e rochoso.



Classifica como verdadeiras (V) ou falsas (F) as seguintes afirmações.

Vazios humanos são áreas praticamente desabitadas.

As áreas repulsivas são regiões que, pelas suas condições são favoráveis à fixação humana.

A presença de antigas civilizações pode explicar os vazios populacionais.

A proximidade do mar é um fator repulsivo para a fixação da população, criando vazios humanos.

A população prefere regiões com temperaturas entre os 10°C e os 30°C

Nome: _____



Turma: _____ N.º: _____



Data: ____/____/____



Bom Trabalho!