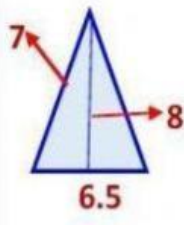


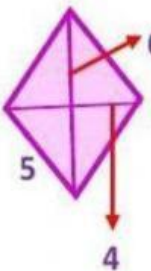
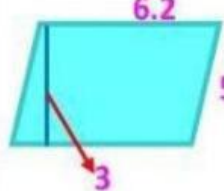
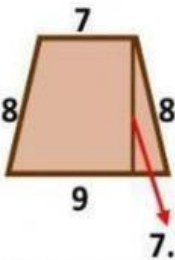
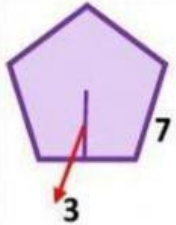
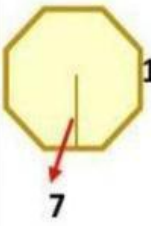


NOMBRE \_\_\_\_\_ GRUPO \_\_\_\_\_

Encuentra el perímetro, el área y escribe el nombre correctamente en cada una de las figuras. (no se te olviden poner los acentos)

 <p>NOMBRE <input type="text"/></p> <p>PERÍMETRO <input type="text"/> m</p> <p>AREA <input type="text"/> m<sup>2</sup></p>	 <p>NOMBRE <input type="text"/></p> <p>PERÍMETRO <input type="text"/> m</p> <p>AREA <input type="text"/> m<sup>2</sup></p>
 <p>NOMBRE <input type="text"/></p> <p>PERÍMETRO <input type="text"/> m</p> <p>AREA <input type="text"/> m<sup>2</sup></p>	 <p>NOMBRE <input type="text"/></p> <p>PERÍMETRO <input type="text"/> m</p> <p>AREA <input type="text"/> m<sup>2</sup></p>
 <p>NOMBRE <input type="text"/></p> <p>PERÍMETRO <input type="text"/> m</p> <p>AREA <input type="text"/> m<sup>2</sup></p>	 <p>NOMBRE <input type="text"/></p> <p>PERÍMETRO <input type="text"/> m</p> <p>AREA <input type="text"/> m<sup>2</sup></p>
 <p>NOMBRE <input type="text"/></p> <p>PERÍMETRO <input type="text"/> m</p> <p>AREA <input type="text"/> m<sup>2</sup></p>	 <p>NOMBRE <input type="text"/></p> <p>PERÍMETRO <input type="text"/> m</p> <p>AREA <input type="text"/> m<sup>2</sup></p>

MRFCh