



PSIKOTEST

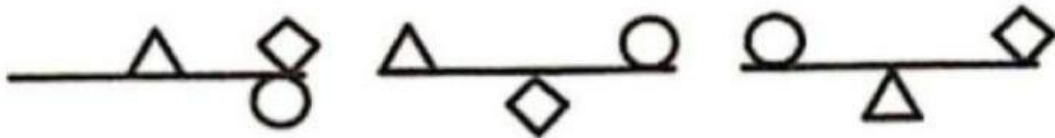
Logika

Nama : _____

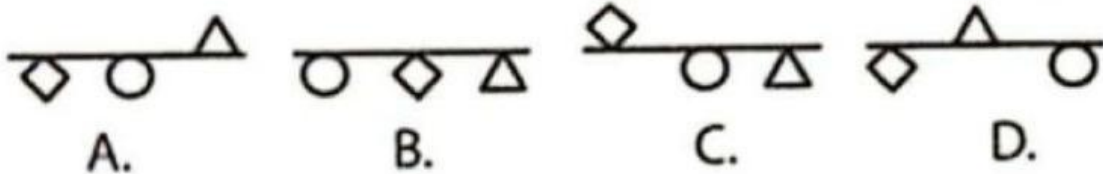
Kelas : _____

JAWAB

Manakah gambar yang cocok sebagai lanjutan dari gambar deret berikut?



Gambar yang cocok untuk selanjutnya adalah



☐ A


☐ B

☐ C

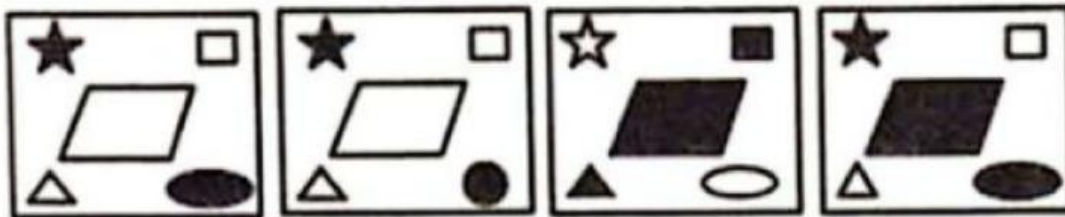
☐ D

JAWAB

Gambar lanjutan yang cocok adalah ...



Gambar yang cocok untuk selanjutnya adalah



☐ A

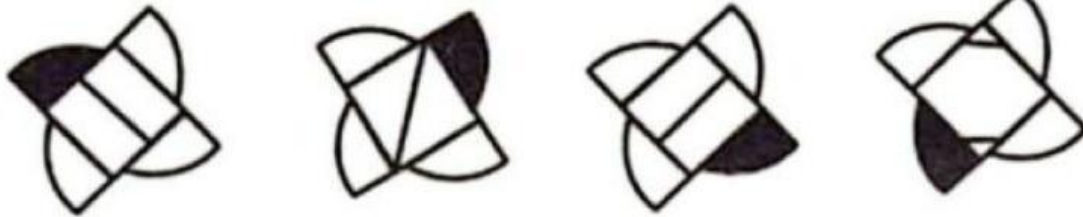
☐ B

☐ C


☐ D

JAWAB


Gambar lanjutan yang tepat adalah ...



Gambar yang cocok untuk selanjutnya adalah



A.



B.



C.



D.

☐ A

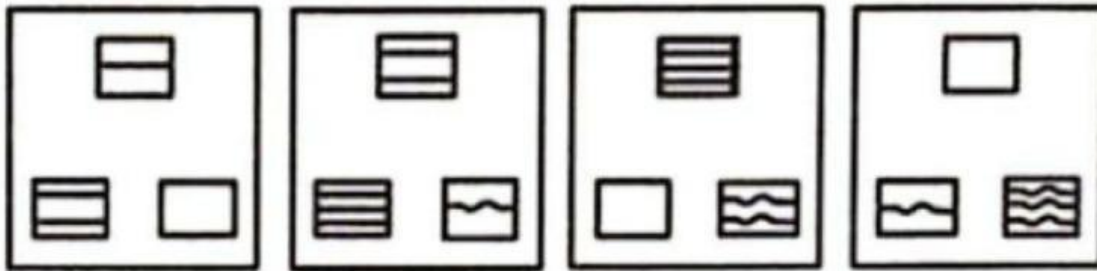
☐ B

☐ C


☐ D

JAWAB

Gambar lanjutan yang tepat adalah ...



Gambar yang cocok untuk selanjutnya adalah



A.

B.

C.

D.

☐ A

☐ B

☐ C

☐ D

JAWAB

Perhatikan gambar deret berikut!



Gambar yang cocok untuk selanjutnya adalah



A.



B.



C.



D.

☐ A

☐ B

☐ C

☐ D

JAWAB

72	24	6
96	16	12
108	?	18

- ☐ 18
- ☐ 20
- ☐ 16
- ☐ 12

JAWAB

12	47	21
10	52	4
64	?	24

- ☐ 40
- ☐ 83
- ☐ 62
- ☐ 16

JAWAB

1	2	3
11	7	5
120	45	?

- ☐ 19
- ☐ 17
- ☐ 16
- ☐ 15