

# Centro Educativo en Computación San Bernabé

3ro Primaria, Matemática  
Primer bimestre, Examen Parcial 1-6

Nombre: \_\_\_\_\_

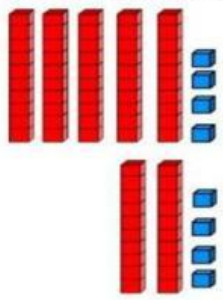
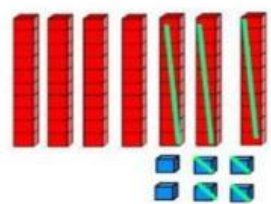
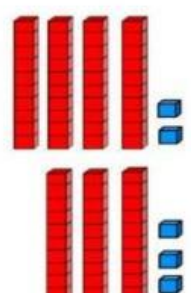


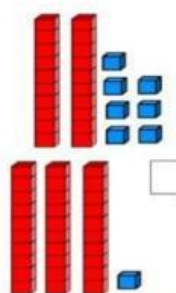
Clave: \_\_\_\_\_ fecha: \_\_\_\_\_

A. Resuelva lo que en cada inciso se le solicita.

1. Resuelva las siguientes restas.

$\begin{array}{r} 63 \\ - 38 \\ \hline \end{array}$	$\begin{array}{r} 44 \\ - 29 \\ \hline \end{array}$	$\begin{array}{r} 60 \\ - 45 \\ \hline \end{array}$	$\begin{array}{r} 63 \\ - 19 \\ \hline \end{array}$
$\begin{array}{r} 28 \\ - 19 \\ \hline \end{array}$	$\begin{array}{r} 22 \\ - 23 \\ \hline \end{array}$	$\begin{array}{r} 53 \\ - 14 \\ \hline \end{array}$	$\begin{array}{r} 36 \\ - 19 \\ \hline \end{array}$

2. Escriba las siguientes restas. Observe los bloques de valor.

	$\begin{array}{r} \text{D} \quad \text{U} \\ \hline \end{array}$		$\begin{array}{r} \text{D} \quad \text{U} \\ \hline \end{array}$
	$\begin{array}{r} \text{D} \quad \text{U} \\ \hline \end{array}$		$\begin{array}{r} \text{D} \quad \text{U} \\ \hline \end{array}$
	$\begin{array}{r} \text{D} \quad \text{U} \\ \hline \end{array}$		$\begin{array}{r} \text{D} \quad \text{U} \\ \hline \end{array}$

3. Resuelve

$\begin{array}{r} 331 \\ + 153 \\ \hline \end{array}$	$\begin{array}{r} 612 \\ + 313 \\ \hline \end{array}$	$\begin{array}{r} 323 \\ + 626 \\ \hline \end{array}$	$\begin{array}{r} 664 \\ + 275 \\ \hline \end{array}$
---	---	---	---

4. Resuelva las siguientes restas con ceros

$\begin{array}{r} 400 \\ - 270 \\ \hline \end{array}$	$\begin{array}{r} 900 \\ - 743 \\ \hline \end{array}$	$\begin{array}{r} 700 \\ - 368 \\ \hline \end{array}$	$\begin{array}{r} 200 \\ - 56 \\ \hline \end{array}$
---	---	---	--

5. Resuelva los siguientes problemas. Subraye la respuesta correcta.

- a) Una tienda tenía 100 globos y vendió 58. ¿Cuántos quedan?
- a) Quedan 40
  - b) Quedan 41
  - c) Quedan 43
  - d) Quedan 42
- b) Hay 81 libros en la biblioteca y prestaron 39. ¿Cuántos quedan?
- a) Quedan 40
  - b) Quedan 41
  - c) Quedan 42
  - d) Quedan 43
- c) Un granjero tenía 95 gallinas y vendió 52. ¿Cuántas le quedan?
- a) Ahora tiene 43 gallinas
  - b) Ahora tiene 42 gallinas
  - c) Ahora tiene 44 gallinas
  - d) Ahora tiene 45 gallinas
- d) En un estacionamiento había 78 autos y se fueron 46. ¿Cuántos quedan?
- a) Quedan 31 autos
  - b) Quedan 34 autos
  - c) Quedan 33 autos
  - d) Quedan 32 autos
- e) Un camión llevaba 89 cajas y bajaron 57. ¿Cuántas quedan en el camión?
- a) En el camión quedan 30 cajas.
  - b) En el camión quedan 31 cajas.
  - c) En el camión quedan 32 cajas.
  - d) En el camión quedan 33 cajas.