



المادة: علوم	اسم الوحدة: الطقس
الاسبوع: الثاني	التاريخ: ..... / ..... / ١٤٤٤ هـ
عنوان الدرس: الغيوم والهطول	الصف الدراسي: الخامس

**السؤال: ضع علامة ( √ ) أمام العبارة الصحيحة وعلامة ( X ) أمام العبارة الخاطئة:**

( )	الجبهة الهوائية هي منطقة إنتقاء الكتل الهوائية .
( )	الغيوم الريشية هي غيوم خفيفة تتكون على ارتفاعات عالية ولها حواف غير محددة .

**السؤال: اختر الإجابة الصحيحة من بين الأقواس :**

(الغيوم الريشية - الغيوم الركامية - الغيوم الطبقيّة - الكتل الهوائية )

( )	غيوم رمادية سميكة تتكون على ارتفاعات متوسطة .
( )	غيوم خفيفة تتكون على ارتفاعات عالية ولها حواف غير محددة .
( )	غيوم داكنة تتكون على ارتفاعات منخفضة .
( )	منطقة واسعة من الهواء تمتاز بدرجة حرارة ورطوبة متشابهة .

**السؤال: قارن بين الغيوم الريشية والطبقيّة حسب أوجه المقارنة:**

وجه المقارنة	الغيوم الريشية	الغيوم الطبقيّة
أماكن تكونها	تتشكل على ارتفاعات .....	تتشكل على ارتفاعات .....

**السؤال: ما اسم الأداة ، وفيما تستخدم؟ :**



.....  
يستخدم لـ.....



.....  
يستخدم لـ.....






.....  
يستخدم لـ.....



.....  
يستخدم لـ.....



**السؤال : اسفل كل صورة اكتب نوع الغيوم وعند أي ارتفاع تتكون :**

الصورة	نوع الغيمة	الإرتفاع
		
		
		

**السؤال : من خلال الشكل ، اكمل الفراغات :**



- نوع الضغط الجوي : .....
- يتكون مع الهواء : .....
- يكون هذا النوع مصحوباً ب : .....
- تتحرك فيه الرياح ..... عقارب الساعة .



- نوع الضغط الجوي : .....
- يتكون مع الهواء : .....
- يكون هذا النوع مصحوباً ب : .....
- تتحرك فيه الرياح ..... عقارب الساعة .