



ESCUELA DE EDUCACIÓN BÁSICA

"EDUARDO KINGMAN"

eduardokingman13@hotmail.com

Sibambe # 510 y Ambato

0997331799

Distrito: 09D24 CÓDIGO AMIE:09H03582 ZONA: 8

CIRCUITO 09D24C01_02

EVALUACIÓN CORRESPONDIENTE AL 1ER PARCIAL DEL 3ER TRIMESTRE

CURSO: 5to Año Básico

MATERIA: Matemáticas

Nivel BÁSICA Básica Media

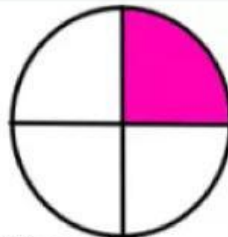
DOCENTE: Ing. Lourdes Miranda Pachay

Nombre:				Calificación	
Fecha:	___/___/2025	Tiempo:	40 min	:	




1.- observa solamente la figura indicada. la parte rosada de la circunferencia representa.

(2 puntos)

- A) $\frac{1}{2}$
- B) $\frac{1}{4}$
- C) $\frac{1}{8}$
- D) $\frac{1}{6}$

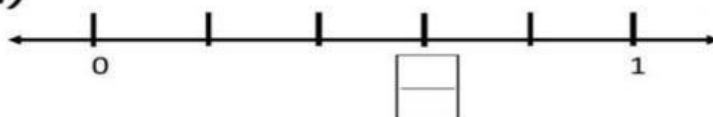


2.-Comparar las siguientes fracciones. (2 puntos)

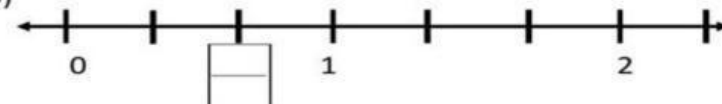


3.-Ubicar las siguientes fracciones en la recta numérica. (2 puntos)

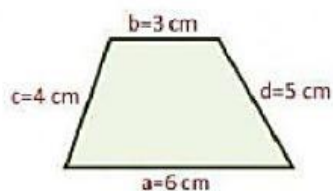
a)



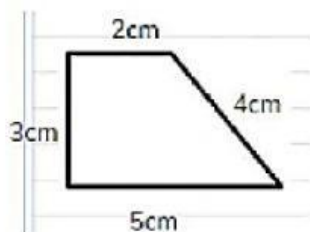
b)



4.-Relaciona la figura con su perímetro correspondiente. (2 puntos)



P= 14 cm



P= 18 cm

5.- Conversión del metro y sus múltiplos. (2 puntos)

¿Cuántos Kilómetros tiene 3 metros?

- a) 30 km
- b) 300 km
- c) 3000 km
- d) 0,3 km

¿Cuántos metros tiene 5 Hectómetros?

- a) 50 m
- b) 500 m
- c) 5000 m
- d) 0,3 m