

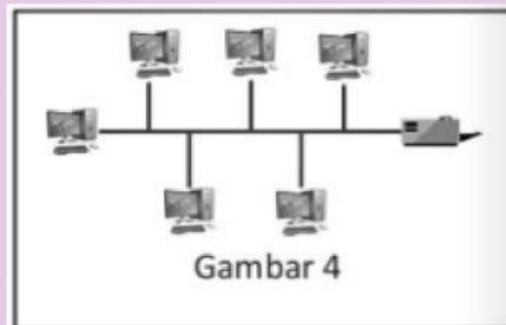
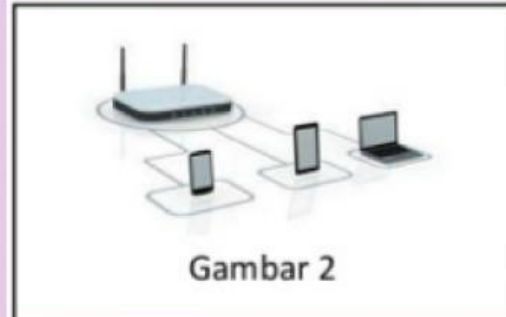
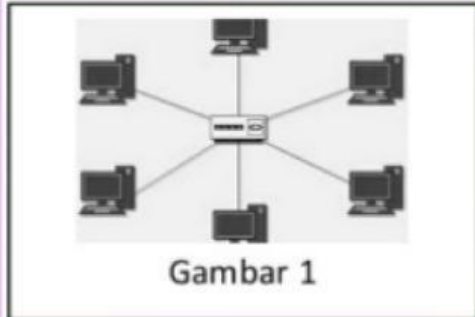
LKPD

JARINGAN KOMPUTER KELAS IX



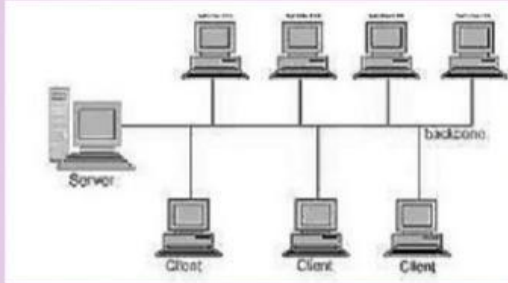
NAMA ANGGOTA

KEGIATAN 1



Dari gambar tersebut, manakah yang termasuk jaringan komputer? Berikan alasanmu!

KEGIATAN 2



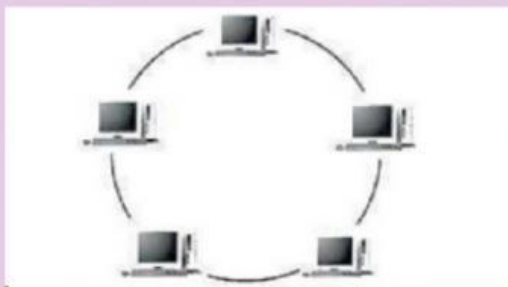
Nama Topologi:

Karakteristik:



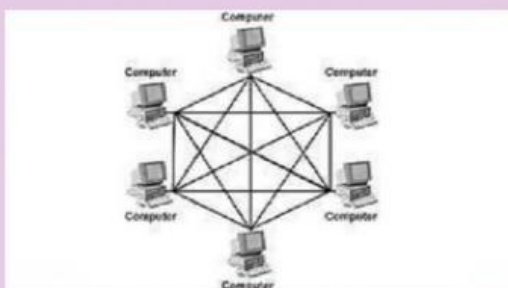
Nama Topologi:

Karakteristik:



Nama Topologi:

Karakteristik:



Nama Topologi:

Karakteristik:

KEGIATAN 3

Pada aktivitas ini, kalian diminta untuk mengidentifikasi jenis koneksi yang bisa dilakukan antara ponsel dan perangkat di bawah ini.



Bergantung pada spesifikasinya, setiap perangkat bisa saja terhubung dengan ponsel menggunakan salah satu koneksi Kabel Data, Bluetooth, atau Wifi, atau gabungan dari ketiganya. Identifikasi gambar-gambar di atas sesuai dengan perangkat yang kalian miliki atau pengamatan kalian di lingkungan sekitar misalnya sekolah atau rumah. Manakah perangkat yang bisa terhubung dengan ponsel dan mana yang tidak bisa terhubung dengan ponsel? Jangan lupa untuk menulis merk atau tipe perangkat yang siswa amati. Jika tidak punya salah satu perangkat, kalian bisa saling berdiskusi dengan teman yang mungkin memiliki perangkat tersebut.



No	Nama Perangkat	Merk / Tipe	Cara Koneksi dengan Ponsel
1			
2			
3			
4			
5			
6			
7			
8			
9			
10			

