

EKONOMI

ALAT PEMBAYARAN

LEMBAR KERJA PESERTA DIDIK (LKPD)



Kelas

X

SMA - MA

Identitas Peserta Didik

Nama :

Kelas :

Nomor :



Penyusun,

Siti Saadah Nurul Islami, S.Pd

SMA NEGERI 1 PANGKALAN, KARAWANG

LEMBAR KERJA PESERTA DIDIK (LKPD)

ALAT PEMBAYARAN

Nama :

Kelas :



Kompetensi Dasar

3.6 Mendeskripsikan bank sentral, sistem pembayaran, dan alat pembayaran dalam perekonomian Indonesia.

4.6 Menyajikan peran bank sentral, sistem pembayaran, dan alat pembayaran dalam perekonomian Indonesia



Indikator

3.6.1 Menjelaskan pengertian Alat Pembayaran Tunai (Uang) dan Nontunai

3.6.2 Menjelaskan sejarah uang

3.6.3 Menjelaskan pengertian uang

3.6.4 Menjelaskan fungsi, jenis, dan syarat uang

3.6.5 Menjelaskan pengelolaan uang rupiah oleh bank indonesia

3.6.6 Menjelaskan unsur pengaman uang rupiah

3.6.7 Menjelaskan pengertian alat pembayaran nontunai

3.6.8 Menjelaskan jenis-jenis alat pembayaran nontunai



Tujuan Pembelajaran

1. Mendeskripsikan sejarah, pengertian, syarat, jenis dan fungsi uang.

2. Mendeskripsikan pengelolaan uang rupaiah oleh bank Indonesia

3. Mendeskripsikan unsur pengaman uang rupiah

4. mendeskripsikan alat pembayaran non tunai

LEMBAR KERJA PESERTA DIDIK (LKPD) ALAT PEMBAYARAN

Nama :

Kelas :

No. Absen :



Aktivitas Mandiri


Petunjuk!

Bacalah dan pahami bacaan berikut ini!


Alat Pembayaran

Uang dalam ilmu ekonomi tradisional didefinisikan sebagai setiap alat tukar yang dapat diterima secara umum. Alat tukar itu dapat berupa benda apapun yang dapat diterima oleh setiap orang di masyarakat dalam proses pertukaran barang dan jasa. Tetapi apakah kalian sudah tahu bagaimana evolusi uang hingga bentuknya tidak terlihat lagi alias tidak ada fisiknya alias *cashless* seperti sekarang?

Untuk lebih jelasnya silahkan kalian lihat video youtube berikut ini.



Dengarkan lagu dibawah ini!



LEMBAR KERJA PESERTA DIDIK (LKPD)

ALAT PEMBAYARAN

A. Pilihlah jawaban yang paling benar!

- Berikut yang bukan merupakan syarat yang harus dipenuhi agar uang dapat berfungsi dengan baik adalah
 - Mudah dibawa (dipindahkan)
 - Nilainya stabil
 - Terbuat dari logam mulia
 - Diterima secara umum
 - Tahan lama
- Uang kertas dan uang logam adalah pembagian uang berdasarkan
 - Negara yang mengeluarkan
 - Bahan pembuatan uang
 - Nilai uang
 - Pihak yang mengeluarkan uang
 - Jumlah nilai yang tertulis

B. Berikut ini merupakan gambar pahlawan nasional yang ditampilkan pada uang emisi 2016.

- Tuliskan pada kolom yang tersedia, pahlawan tersebut terdapat dalam uang pecahan



C. Jawablah pertanyaan berikut ini!

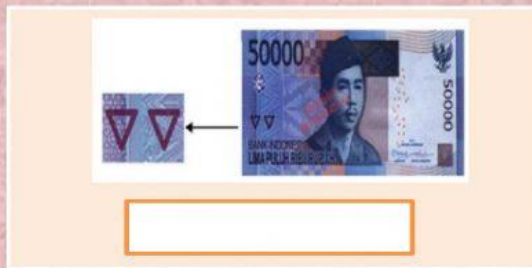
- Uang yang nilai intrinsiknya sama dengan nilai nominalnya disebut .
- hasil cetak dengan tinta khusus berupa logo BI dalam bidang tertentu, yang akan berubah warna apabila dilihat dari sudut pandang berbeda
- Uang giral diterbitkan oleh
- Salah satu syarat uang adalah mudah untuk dibagi tanpa mengurangi nilainya disebut ...

LEMBAR KERJA PESERTA DIDIK (LKPD)

ALAT PEMBAYARAN

D. Berikut ini merupakan unsur pengaman uang Rupiah.

8. Pasangkan gambar unsur pengaman uang Rp 50.000,00 berikut ini dengan nama/istilah unsur pengaman nilai rupiah yang terdapat pada kolom dibawah ini!



Watermark

Rectoverso

Invisible Ink

Blind Code

E. Carilah pasangan yang sesuai dengan cara menarik garis!

Tidak mudah dipalsukan

Durability

Mudah Dibagi

Divisibility

Diterima secara umum

Scarcity

Tidak mudah rusak

Acceptability

F. Berilah tanda centang untuk contoh alat pembayaran non tunai!

- ☐ Uang kertas
- ☐ Uang logam
- ☐ Kartu Kredit
- ☐ Bilyet Giro
- ☐ E money
- ☐ Cek