

LKPD

Matematika

Tema: segitiga berdasarkan sisinya

Nama: _____

Kelas: _____



Bacalah dengan seksama

Tujuan Kegiatan Pembelajaran Melalui kegiatan pada LKPD ini, peserta didik diharapkan dapat:

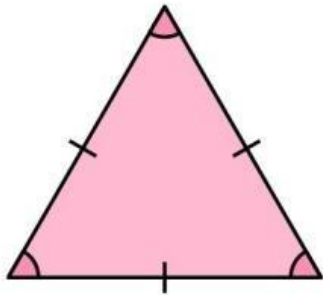
- Mengenali segitiga sebagai bangun datar yang memiliki tiga sisi.
- Menyebutkan jenis-jenis segitiga berdasarkan panjang sisinya.
- Mengelompokkan segitiga berdasarkan kesamaan panjang sisi.
- Menjelaskan ciri-ciri segitiga berdasarkan panjang sisi dengan bahasa sederhana.

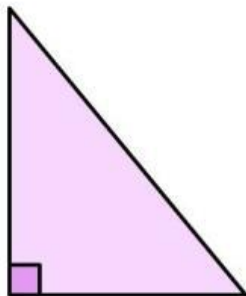
Petunjuk Pengerjaan

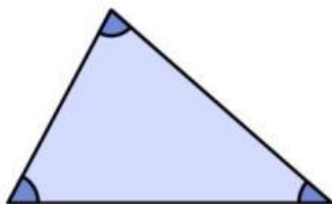
- LKPD ini dikerjakan secara berkelompok.
- Amatilah gambar atau media yang ditampilkan guru dengan teliti.
- Diskusikan setiap pertanyaan bersama teman satu kelompok.
- Tuliskan jawaban dengan rapi dan jelas.
- Jika mengalami kesulitan, mintalah bantuan guru.

AYO KENALI CIRI BANGUN DATAR SEGITIGA BERDASARKAN SISINYA

Sebutkan ciri-ciri dari bangun datar segitiga berdasarkan sisinya di bawah ini dengan benar.

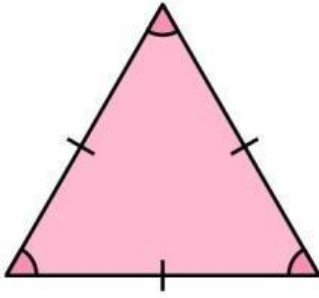


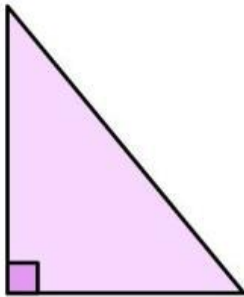


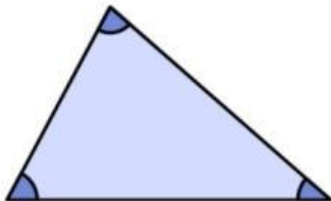


AYO KENALI DALAM KEHIDUPAN SEHARI HARI

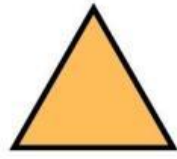
Sebutkan benda benda dari bangun datar segitiga berdasarkan sisinya di bawah ini dengan benar.







MENGENAL BANGUN DATAR



segitiga

yuk lingkari gambar yang berbentuk segitiga:

