

Lembar kerja peserta didik

Bahasa Indonesia

Kelas 5

KELOMPOK 9


Hutri Kalisa Ramadhani R. (098)

Nama :
Kelas :
Sekolah :
Cita-cita :

Dosen pengampu Sopi Paris,S.pd.,M.p.d



ayo membaca



AKU ADALAH PISANG.

**MANFAAT AKU BAIK UNTUK
PERTUMBUHAN DAN KESEHATAN TUBUH.**

RASA AKU MANIS DAN LEMBUT.

**AKU MEMILIKI BENTUK PANJANG DAN
MELENGKUNG.**

JAWABLAH PERTANYAAN DI BAWAH INI!

1. AKU ADALAH BUAH ?

**2. APAKAH AKU BERMANFAAT BAIK UNTUK
PERTUMBUHAN DAN KESEHATAN TUBUH?**

3. AKU MEMILIKI RASA?

4. AKU MEMILIKI BENTUK?



Nama:

Kelas:

SINGKATAN DAN AKRONIM

Carilah kepanjangan dari singkat dan akronomin berikut ini

NO	SINGKATAN DAN AKRONIM	KEPANJANGAN
1.	SD	
2.	SMP	
3.	KTP	
4.	UU	
5.	DPR	
6.	RS	
7.	PKN	




RANTAI MAKANAN

Rantai makanan adalah urutan makan dan dimakan antara makhluk hidup di alam, yang menunjukkan aliran energi dari satu organisme ke organisme lain.

Produsen → Konsumen I → Konsumen II → Konsumen III → Pengurai

urutkan lah dengan benar rantai makanan di bawah ini!





Mari berlatih!

ukurlah sudut yang si bentuk oleh jarum jam pendek dan panjang pada gambar berikut!

1



Pukul.... Besar sudut adalah....°

2



Pukul.... Besar sudut adalah....°

3



Pukul.... Besar sudut adalah....°



JAWABLAH DENGAN BENAR PERKALIAN DI BAWAH INI!

$$\begin{array}{r} 20 \\ 2 \\ \hline \end{array} \times$$

$$\begin{array}{r} 15 \\ 3 \\ \hline \end{array} \times$$

$$\begin{array}{r} 17 \\ 2 \\ \hline \end{array} \times$$

$$\begin{array}{r} 28 \\ 4 \\ \hline \end{array} \times$$

$$\begin{array}{r} 22 \\ 5 \\ \hline \end{array} \times$$

$$\begin{array}{r} 77 \\ 7 \\ \hline \end{array} \times$$

$$\begin{array}{r} 28 \\ 28 \\ \hline \end{array} \times$$

$$\begin{array}{r} 37 \\ 9 \\ \hline \end{array} \times$$

$$\begin{array}{r} 81 \\ 9 \\ \hline \end{array} \times$$



Mengenal rambu lalu lintas



jika lampu merah artinya

jika lampu kuning artinya

jika lampu hijau artinya

benda di samping di sebut



arti rambu di samping adalah



arti rambu di samping adalah



arti rambu di samping adalah

PILIHAN GANDA

Pilih salah satu jawaban yang benar dibawah ini



Apa yang kamu gunakan untuk merasakan makanan?

- a. Mata
- b. Lidah
- c. Telinga



Apa yang kamu gunakan untuk merasakan minuman?

- a. Mata
- b. Lidah
- c. Telinga



Apa yang kamu gunakan untuk mendengarkan musik?

- a. Mata
- b. Lidah
- c. Telinga

AYO MENULIS

sebutkan 3 nama hewan pemakan tumbuhan ?

.....

Aku adalah hewan yang memiliki leher yang panjang?

.....

aku adalah sayur berwarna oranye, memiliki vitamin A dan disukai oleh kelinci ?

.....

Tuliskan nama planet yang kamu ketahui ?

.....

Hewan apa yang hidup di air?

.....

Bagian tubuh mana yang dapat kita gunakan untuk melihat?

.....



Soal cerita



Ini bola
Ini bola Edy
Bola Edy baru
Edy baru beli bola itu
Edy suka bola itu.

Jawablah pertanyaan berikut berdasarkan teks di atas!

1. Ini apa?

2. Ini bola siapa?

3. bola Edy?

4. Edy baru beli?



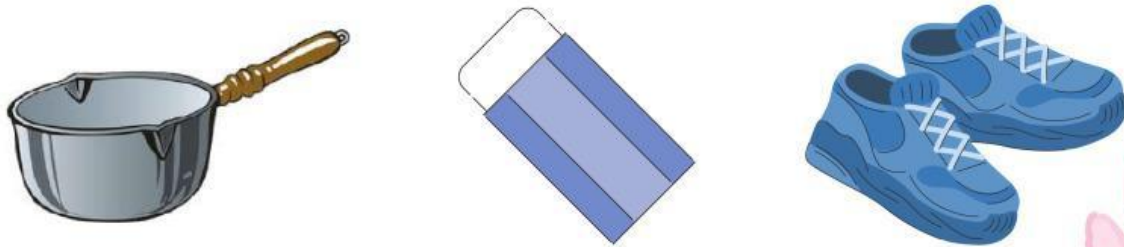
Mewarnai Gambar

Mewarnai gambar yang merupakan jawaban dari tiap pertanyaan !


Alat mana yang di gunakan untuk menulis?



Alat mana yang di gunakan untuk memasak?



Kenal aku





Seperti apakah aku?



Membuat kalimat sesuai gambar











Deskripsikan gambar berikut!