




Lembar Kerja Peserta Didik

LKPD

Tema Matematika Dasar

SIFAT BANGUN DATAR
KELAS 3

★Disusun oleh:
fatimatz zahro (34302400143)
Prodi Pendidikan Guru Sekolah
★Dasar



SOAL CERITA UNSUR DAN SIFAT BANGUN DATAR!

Petunjuk: Isilah jawaban yang benar!

Nama Siswa: _____ Kelas: _____

Contoh

Ani memiliki sapu tangan berbentuk persegi.

Sapu tangan tersebut memiliki 4 sisi sama panjang.

Pertanyaan:

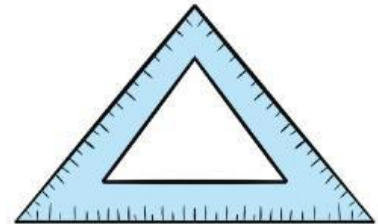
- 4
 - 2
1. Berapa jumlah sisi pada bangun tersebut?
 2. Apakah semua sisinya sama panjang?
- Tidak
 - Iya



Zara mempunyai penggaris berbentuk segitiga.

Pertanyaan:

1. Berapa jumlah sisi pada bangun segitiga?
2. Berapa jumlah sudutnya?



Jam dinding dikelas berbentuk lingkaran

Pertanyaan:

1. Apakah lingkaran memiliki sudut?
2. Berapa jumlah sisinya?



Buku tulis Budi berbentuk persegi panjang. Buku tersebut memiliki 4 sudut siku-siku.

Pertanyaan:

1. Berapa jumlah sudut pada bangun persegi panjang tersebut?....
2. Apakah semua sisinya sama panjang?



UNSUR DAN SIFAT BANGUN DATAR!

Petunjuk: Mencentang jawaban yang benar di bawah ini!

Nama Siswa: _____ Kelas: _____

1. Bangun datar yang memiliki sisi dua sama panjang adalah...



[.....]



[.....]

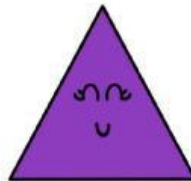


[.....]

2. Bangun datar yang memiliki 4 sudut dan 4 sisi berhadapan sama panjang adalah ...



[.....]



[.....]



[.....]

3. Bentuk bangun datar yang tepat untuk roda sepeda adalah ...



[.....]



[.....]



[.....]

4. Bangun datar yang jumlah sisinya dan sudutnya sama banyak adalah....



[.....]



[.....]



[.....]