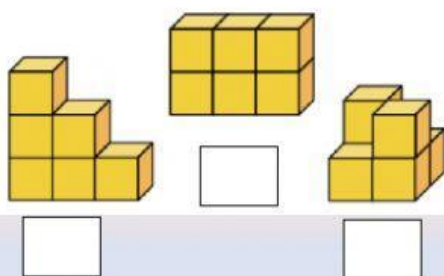




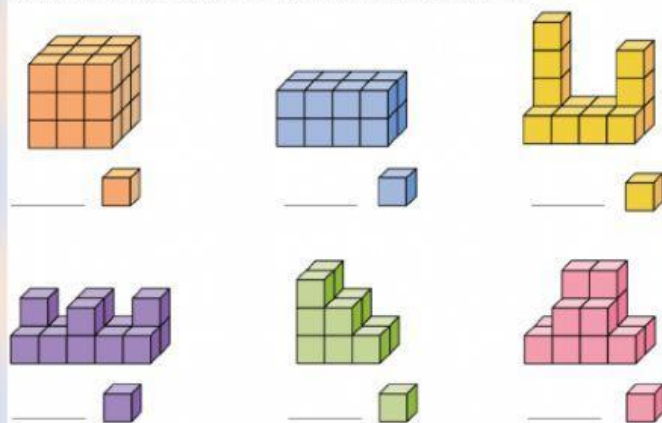
## VOLUMEN CON CUBO UNIDAD

Observa las figuras y contesta.

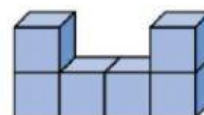


• ¿Cuál es el volumen de cada figura?

Cuenta cuántos cubos unidad forman cada figura y escribe su volumen.



Lee y calcula el volumen de cada figura.



Volumen = \_\_\_\_\_



Volumen = \_\_\_\_\_



Volumen = \_\_\_\_\_



Volumen = \_\_\_\_\_



**Halla** el volumen en cubitos unidad de cada cuerpo.

