






LATIHAN SOAL

Nama : _____ Kelas : _____

PECAHAN SEDERHANA

Gambar	Pertanyaan	Jawaban
	Ada berapa banyak pizza pada gambar disamping?	
	Berapa banyak bagian pizza saat ini?	
	setiap bagian memiliki berapa pizza?	
	Berapa banyak bagian kimbab itu saat ini?	
	<ol style="list-style-type: none"> Berapa banyak coklat yang Dina miliki? Berapa banyak potong coklat pada 1 bagian tersebut? 	

Nama: _____

Kelas: _____

Cara menulis dalam pecahan

Wini



Wono



Apakah jumlah potongan coklat wini dan wono sama besar?

Bagian Wini berasal dari satu batang coklat utuh. Artinya Wini mendapatkan bagian dari total bagian

Wini



Wono



Jika Dina memiliki 1 bagian coklat dan memberikan coklatnya kepada wono sebanyak . Berapa banyak sisa coklat milik Dina?

$\frac{2}{2} - \frac{1}{2} =$	
$\frac{3}{2} + \frac{1}{2} =$	