












Nama:

Kelas:

PERBANDINGAN

Amatilah jumlah gambar di bawah ini, lalu bandingkan dan berikan tanda (<)> dan (=) untuk menjawab soal berikut!



BELAJAR BERHITUNG PERSENAN

Hitung jumlah persen dan hubungkan dengan angka yang tepat!

harga baju RP 120.000 diskonnya 30%
jadi berapa harga yang harus dibayar?

51.000

harga sepatu RP 250.000 diskon 20%
jadi berapa harga yang harus dibayar?

84.000

Harga sebuah tas adalah Rp300.000.
Tas tersebut mendapat diskon 10%.
Berapa harga yang harus dibayar?

200.000

30% dari 170.000

270.000

10% dari 200.000

20.000

perbandingan rasio

HITUNG PERBANDINGAN RASIO DAN PASANGKAN DENGAN JAWABAN YANG TEPAT!

2:1

Anisa mempunyai 4 apel dan meli mempunyai 2 jeruk berapa perbandingan buah anisa dan meli?

2:1

Di kelas ada 20 anak laki-laki dan 15 anak perempuan berapa perbandingan anak laki-laki dan perempuan di kelas tersebut?

4:3

Budi memiliki 14 pensil dan andi memiliki 21 penghapus tentukan perbandingan jumlah pensil budi dan penghapus andi?

3:2

Yesaya memiliki 8 buku dan abraham memiliki 4 penggaris tentukan perbandingan jumlah buku yesaya dan penggaris abraham?

2:3

Trihan memiliki 12 kelereng dan adila memiliki 8 peremen tentukan jumlah kelereng trihan dan peremen adila?