





Hudební teorie


1) *Napiš název noty:*

a) 

b) 

c) 

d) 

e) 

2) *Označ správná tvrzení:*

- a) Notová osnova se skládá ze čtyř linek.
- b) Houslový klíč se nazývá G klíč, protože začíná na lince, kde leží nota G.
- c) Nota celá se počítá na dvě doby.
- d) Stupnice C dur nemá žádná předznamenání.
- e) Výraz „forte“ znamená, že se máme hrát potichu.
- f) Akord je souzvuk nejméně tří tónů.
- g) Křížek před notou zvyšuje notu o půl tónu.

3) *Vyber správnou odpověď:*

- a) P (piano)= slabě/silně
- b) F (forte)= silně/středně silně
- c) Mf (mezzoforte)= slabě/středně silně
- d) Cresc. (crescendo)= zeslabovat/zesilovat
- e) Allegro= rychle/pomalou