

ข้อสอบ
วิชาคณิตศาสตร์

ชื่อ.....เลขที่.....

คำชี้แจง ให้นักเรียนโยงเส้นจับคู่ตัวเลขไทยและตัวเลขอารบิก

1 ★

★ ๒

3 ★

★ ๔

5 ★

★ ๑

2 ★

★ ๓

4 ★

★ ๕

ข้อสอบ
วิชาคณิตศาสตร์

ชื่อ.....เลขที่.....

คำชี้แจง ให้นักเรียนโยงเส้นจับคู่ตัวเลขไทยและตัวเลขอารบิก

7 ★

๘ ★

9 ★

๖ ★

6 ★

๓ ★

8 ★

๑๐ ★


10 ★

๗ ★


ข้อสอบ วิชาคณิตศาสตร์

ชื่อ.....เลขที่.....


คำชี้แจง ให้นักเรียนโยงเส้นจับคู่จำนวนภาพและตัวเลขอาหารบิก




2




5



3



1




4

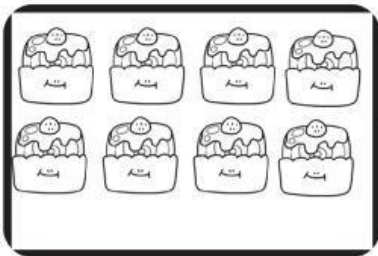
ข้อสอบ วิชาคณิตศาสตร์

ชื่อ.....เลขที่.....


คำชี้แจง ให้นักเรียนโยงเส้นจับคู่จำนวนภาพและตัวเลขอาหารบิก




7



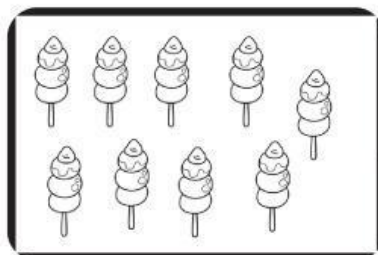
10



6



8



9