

# E-LKPD

ILMU PENGETAHUAN ALAM & SOSIAL

## Sistem Tata Surya

Kelas 6 Sekolah Dasar



Nama : \_\_\_\_\_

No absen : \_\_\_\_\_

Kelas : \_\_\_\_\_



Pasangkanlah planet planet di bawah ini sesuai dengan karakteristiknya!



Planet yang memiliki  
dijuluki bintang senja



Planet yang terjauh  
dari matahari



Planet yang memiliki  
kehidupan



Planet yang terbesar  
di tata surya



Planet yang terdekat  
dengan matahari



Kelompokkan setiap planet ke dalam kolom sesuai kategorinya dengan benar!

Planet Dalam

Planet Luar



Mars



Uranus



Jupiter



Merkurius



Venus



Bumi



Saturnus



Neptunus





Jawablah pertanyaan dibawah ini dengan benar!

1

Tempat dimana planet dan benda langit lainnya mengelilingi berada mengelilingi matahari disebut?



Meteor



Komet



Tata Surya

2

Planet yang dikelilingi batuan membentuk gugusan menyerupai cincin adalah planet?



Venus



Mars



Saturnus

3

Planet mana yang membutuhkan waktu paling lama untuk menyelesaikan satu revolusi penuh mengelilingi Matahari?



Neptunus



Merkurius



Jupiter

4

Sekumpulan benda- benda langit yang berukuran sangat kecil dan orbitnya tidak teratur disebut?



Revolusi



Komet



Meteroid

5

Galaksi berasal dari bahasa Yunani yakni ..... yang memiliki arti susu atau dalam bahasa Inggris milky way (lingkaran susu)



Galaxious



Galaxias















Galaxy



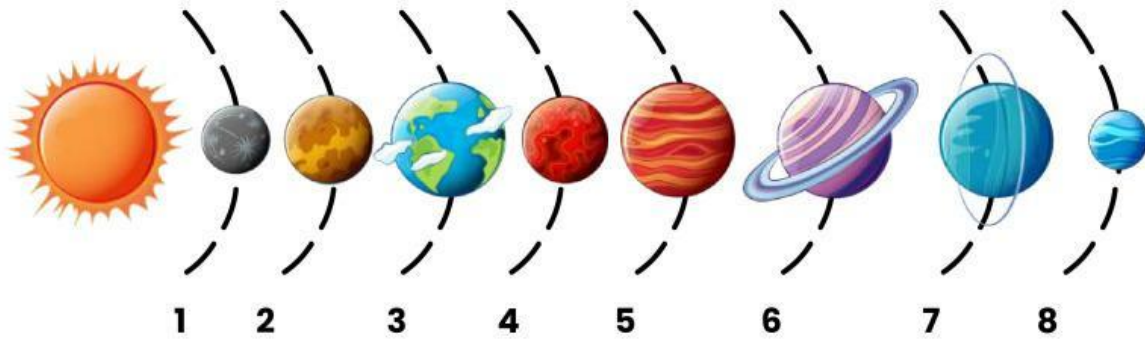
Pilihlah nama yang sesuai untuk masing-masing gambar dengan benar!

Astronot	Komet	Bulan	Satelit
Roket	Matahari	Bintang	Meteor
Teleskop	Bumi	Galaksi	Asteroit

 <input type="text"/>	 <input type="text"/>	 <input type="text"/>
 <input type="text"/>	 <input type="text"/>	 <input type="text"/>
 <input type="text"/>	 <input type="text"/>	 <input type="text"/>
 <input type="text"/>	 <input type="text"/>	 <input type="text"/>



Sebutkan nama planet yang sesuai berdasarkan gambar tersebut!



	Matahari
1	
2	
3	
4	
5	
6	
7	
8	