

**MINISTERUL EDUCAȚIEI
ȘI CERCETĂRII
AL REPUBLICII MOLDOVA**

**AGENȚIA NAȚIONALĂ
PENTRU CURRICULUM ȘI
EVALUARE**

Raionul

Localitatea

Instituția de învățământ

Numele, prenumele elevului

TESTUL Nr. 1

MATEMATICA

**TEST PENTRU EXERSARE
ÎNVĂȚĂMÂNTUL PRIMAR**

februarie 2025

Timp alocat – 60 de minute







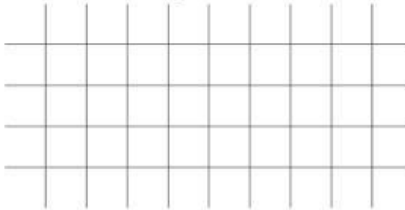
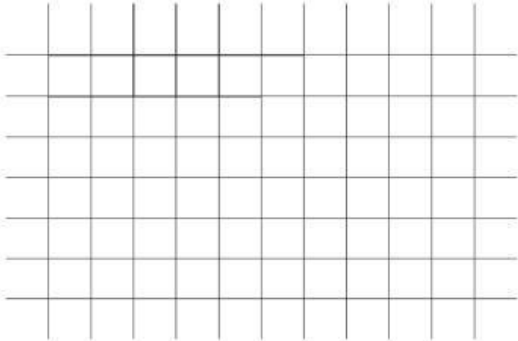
Rechizite și materiale permise: pix cu cerneală albastră, riglă.

Instrucțiuni pentru elevi:

- Citește cu atenție fiecare enunț și efectuează cu acuratețe operațiile solicitate.
- Lucrează independent.

Îți dorim mult succes!

Total puncte _____

6.	<p>Scrie pe liniile rezervate denumirea formei geometrice.</p> <div style="display: flex; justify-content: space-around; align-items: center;"> <div style="text-align: center;">  <hr style="width: 100%;"/> </div> <div style="text-align: center;">  <hr style="width: 100%;"/> </div> <div style="text-align: center;">  <hr style="width: 100%;"/> </div> </div> <div style="display: flex; justify-content: space-around; align-items: center; margin-top: 20px;"> <div style="text-align: center;">  <hr style="width: 100%;"/> </div> <div style="text-align: center;">  <hr style="width: 100%;"/> </div> </div>	L01 L01 L01 L01 L01				
7.	<p>Calculează în coloniță.</p> <div style="display: flex; justify-content: space-around;"> <div style="text-align: center;"> <p>a) 15 710 – 8 618</p>  </div> <div style="text-align: center;"> <p>b) 400 × 380</p>  </div> </div> <div style="text-align: center; margin-top: 20px;"> <p>c) 32 084 : 8</p>  </div>	L012 L012 L012				
8.	<p>Completează cu numerele care lipsesc.</p> $5\ 028 + \boxed{} = 905\ 028$ $542\ 083 - \boxed{} = 2\ 083$	L02 L02				
9.	<p>Descoperă regula de formare a șirului. Scrie numărul următor în caseta rezervată.</p> <table border="1" style="width: 100%; text-align: center; border-collapse: collapse;"> <tr> <td style="width: 25%;">8 605</td> <td style="width: 25%;">8 655</td> <td style="width: 25%;">8 705</td> <td style="width: 25%;"><input style="width: 100%;" type="text"/></td> </tr> </table>	8 605	8 655	8 705	<input style="width: 100%;" type="text"/>	L02
8 605	8 655	8 705	<input style="width: 100%;" type="text"/>			
10.	<p>Scrie în fiecare cerc semnul de comparație corespunzător (<, =, >).</p> $40\ \text{dm} \bigcirc 40\ \text{m}$ $10\ \text{ani} \bigcirc 1\ \text{deceniu}$ $10\ \text{lei} \bigcirc 100\ \text{bani}$	L01 L01 L01				

