




Lembar Kerja Peserta Didik

LKPD

BANGUN DATAR SEGITIGA

Disusun oleh : Rindu Kusumaningtyas

NIM : 34302400145

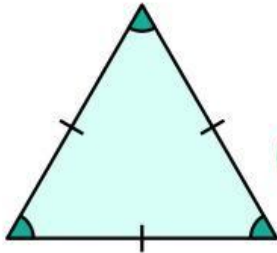


Nama :

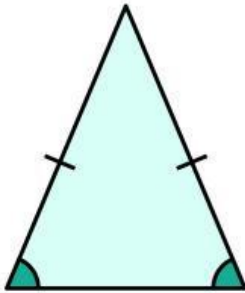
Kelas :

Ciri-ciri Bangun Datar

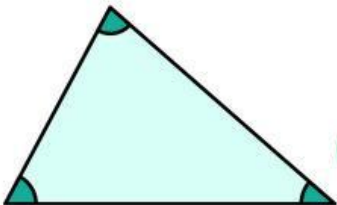
Tariklah garis untuk menghubungkan bangun datar dengan ciri-cirinya dengan tepat dan benar!



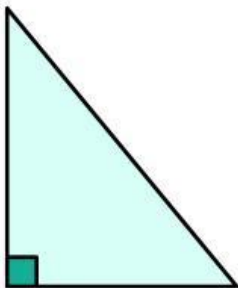
Segitiga dengan 1 sudut 90°



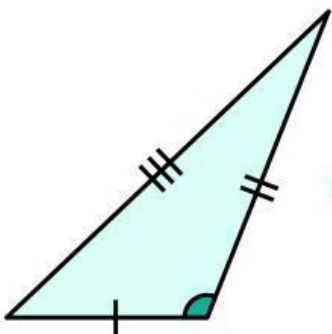
Segitiga dengan 2 sisi sama panjang



Segitiga dengan 1 sudut tumpul ($> 90^\circ$)



Segitiga dengan 3 sisi sama panjang



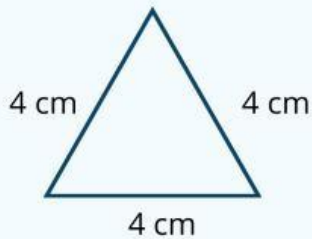
Segitiga dengan 3 sisi berbeda panjang

Nama :

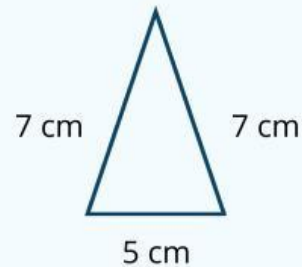
Kelas :

Keliling Segitiga

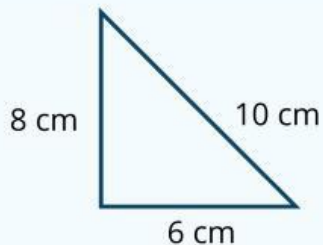
Perhatikan gambar bangun datar segitiga berikut dan hitunglah kelilingnya dengan benar dan tepat!



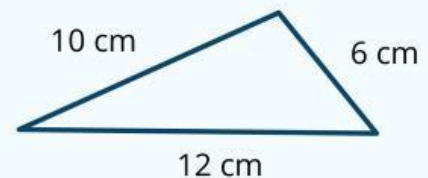
$$\text{Keliling} = 4 + 4 + 4$$
$$\text{Keliling} = 12 \text{ cm}$$



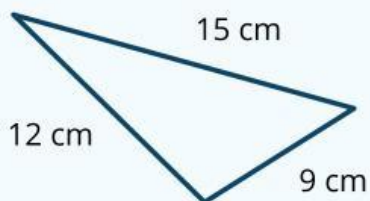
$$\text{Keliling} = \dots + \dots + \dots$$
$$\text{Keliling} = \dots \text{ cm}$$



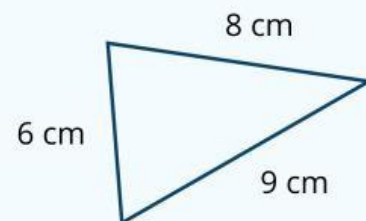
$$\text{Keliling} = \dots + \dots + \dots$$
$$\text{Keliling} = \dots \text{ cm}$$



$$\text{Keliling} = \dots + \dots + \dots$$
$$\text{Keliling} = \dots \text{ cm}$$



$$\text{Keliling} = \dots + \dots + \dots$$
$$\text{Keliling} = \dots \text{ cm}$$



$$\text{Keliling} = \dots + \dots + \dots$$
$$\text{Keliling} = \dots \text{ cm}$$