



Kurikulum
Merdeka



Lembar Kerja Peserta Didik

MATEMATIKA

Materi : Bilangan Pecahan
KELAS 3



DISUSUN OLEH :
NAILATUS SHIFA
34302400101






PENDIDIKAN GURU SEKOLAH DASAR
FAKULTAS KEGURUAN DAN ILMU PENDIDIKAN
UNIVERSITAS ISLAM SULTAN AGUNG SEMARANG

NAMA :

Kelas:

Petunjuk Pengerjaan:

Tulislah nilai pecahan yang sesuai dengan gambar di bawah ini!



NAMA :

Kelas:

Petunjuk Pengerjaan:

Bacalah setiap cerita dengan teliti

Amati gambar pecahan yang telah disediakan

Tuliskan pecahan yang menunjukkan bagian yang di makan pada setiap soal!

1. Rendi mempunyai coklat yang di bagi menjadi 8 bagian, lalu 5 bagian coklat telah dimakan. Tuliskan nilai pecahan coklat yang di makan rendi!



Jawaban: /

2. Rani memiliki kue yang di bagi menjadi 5 bagian, lalu 3 bagian kue telah dimakan. Tuliskan nilai pecahan kue yang dimakan rani!



Jawaban: /

3. Santi mempunyai pukis yang dibagi menjadi 4 bagian, lalu semua bagian pukis telah dimakan. Tuliskan nilai pecahan coklat yang dimakan santi!



Jawaban: /

