





LEMBAR KERJA PESERTA DIDIK

LKPD



KPK

(KELIPATAN PERSEKUTUAN TERKECIL)



DISUSUN OLEH

NAMA: DWI NUR ROHMAWATI


NIM : 34302400001

PRODI: PGSD

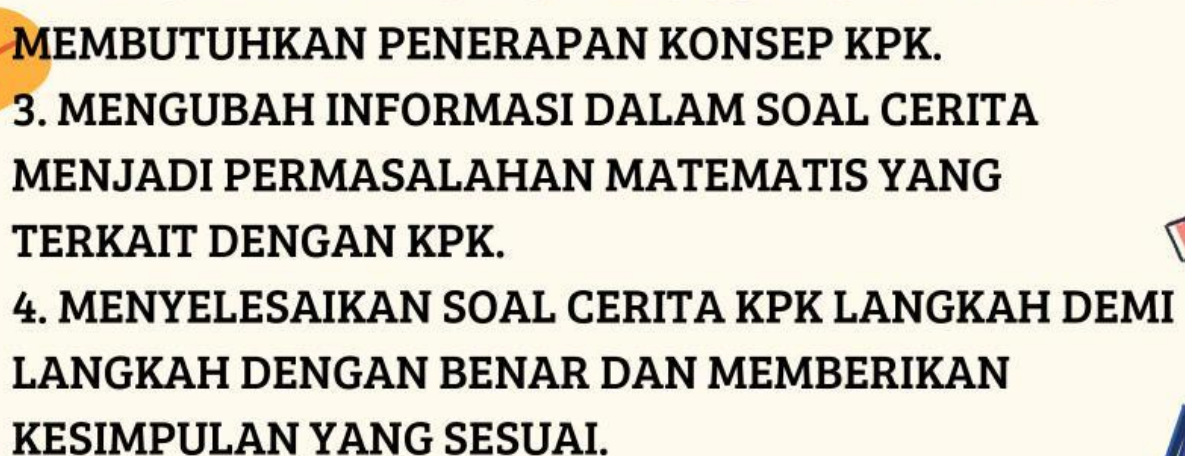




Tujuan Pembelajaran

- 1. SISWA DAPAT MENENTUKAN KELIPATAN DARI SUATU BILANGAN**
 - 2. SISWA DAPAT MENEMUKAN KPK DARI DUA BILANGAN**
 - 3. SISWA DAPAT MENYELESAIKAN SOAL CERITA YANG BERKAITAN DENGAN KPK**
- 

Capaian Pembelajaran

- 1. MENENTUKAN MINIMAL 5 KELIPATAN PERTAMA DARI SUATU BILANGAN.**
 - 2. MENGIDENTIFIKASI KONTEKS SOAL CERITA YANG MEMBUTUHKAN PENERAPAN KONSEP KPK.**
 - 3. MENGUBAH INFORMASI DALAM SOAL CERITA MENJADI PERMASALAHAN MATEMATIS YANG TERKAIT DENGAN KPK.**
 - 4. MENYELESAIKAN SOAL CERITA KPK LANGKAH DEMI LANGKAH DENGAN BENAR DAN MEMBERIKAN KESIMPULAN YANG SESUAI.**
- 

SOAL !

1.

LAMPU A MENYALA SETIAP 5 DETIK, LAMPU B MENYALA SETIAP 6 DETIK, DAN LAMPU C MENYALA SETIAP 8 DETIK. KETIGA LAMPU AKAN MENYALA SECARA BERSAMAAN PADA DETIK KE BERAPA?

2.

SEBUAH BUS A BERANGKAT DARI TERMINAL SETIAP 6 JAM SEKALI, SEDANGKAN BUS B BERANGKAT DARI TERMINAL YANG SAMA SETIAP 8 JAM SEKALI. JIKA KEDUA BUS BERANGKAT SECARA BERSAMAAN PADA PUKUL 06.00 WIB. BERAPA JAM LAGI MEREKA AKAN BERANGKAT BERSAMA LAGI?

3.

PAK ANTON MEMETIK APEL DAN MANGGA DARI KEBUNNYA. DIA MEMASUKKAN APEL KE DALAM EMBER YANG MASING-MASING BERISI 4 BUAH, DAN MANGGA KE DALAM EMBER YANG MASING-MASING BERISI 8 BUAH. JIKA JUMLAH APEL DAN MANGGA YANG DIPETIK SAMA BANYAK, BERAPAKAH JUMLAH APEL (ATAU MANGGA) YANG DIPETIK PAK ANTON?

4.

DI TAMAN, ADA DUA SUMBER AIR YANG MENYEMPROTKAN AIR SECARA TERATUR. SUMBER PERTAMA MENYEMPROT SETIAP 4 DETIK, SUMBER KEDUA MENYEMPROT SETIAP 16 DETIK. KEDUA SUMBER MULAI MENYEMPROT BERSAMAAN PADA SAAT YANG SAMA. BERAPA DETIK KEMUDIAN MEREKA AKAN MENYEMPROT BERSAMAAN LAGI UNTUK PERTAMA KALINYA?

5.

KELOMPOK FUTSAL KELAS 4 DAN KELAS 5 BERLATIH DI LAPANGAN YANG SAMA. KELOMPOK FUTSAL KELAS 4 BERLATIH SETIAP 6 HARI SEKALI DAN KELOMPOK FUTSAL KELAS 5 BERLATIH SETIAP 4 HARI SEKALI, JIKA TANGGAL 7 NOVEMBER 2020 MEREKA BERLATIH BERSAMA DI LAPANGAN YANG SAMA, TANGGAL BERAPA MEREKA AKAN BERLATIH BERSAMA LAGI?

NAMA :

KELAS :



BERILAH TANDA CENTANG PADA JAWABAN
YANG BENAR ✓

LEMBAR JAWABAN

1	2	3	4	5	6	7	8	9	10	12
11	22	24	24	24	6	17	18	19	20	22
21	12	24	120	24	24	27	28	29	30	14
12	12	24	24	24	24	37	38	39	40	42
41	42	24	24	8	8	8	8	8	50	50
51	52	24	24	8	8	8	8	24	8	8
61	62	24	24	24	8	8	24	24	8	9
71	72	24	24	24	24	24	24	24	80	82
81	82	83	24	24	24	24	24	89	90	99
91	92	93	94	16	96	16	98	99	100	14
100	13	15	15	16	15	16	15	15	100	11
20	25	25	15	15	18	18	20	22	27	19

1.

2.

3.

4.

5.