





Back to School

KEBERSAMAAN

Nama :

Kelas :

No :

Bahasa Indonesia

A

Perhatikan video di bawah ini!



B

Dengarkan pertanyaan dari ibu guru dibawah ini ya !



Tuliskan jawabanmu
dibawah ini:



Back to School

PPKn

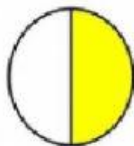
C Pilihlah pernyataan yang sesuai dengan pernyataan dibawah ini:

2. Apakah berkelahi dengan teman termasuk contoh hidup rukun disekolah ...
1. Ani membagi bekal makanan dengan Fahri, apakah sikap Ani merupakan contoh hidup rukun disekolah ...

D Pilihlah pada huruf a, b, atau c di depan jawaban yang benar!

Perhatikan gambar dibawah!

Matematika



1. Banyaknya bangun di atas adalah ...
a. 2 b. 3 c. 4
2. Bangun warna kuning dapat dinyatakan dengan pecahan ...
a. $\frac{1}{4}$ b. $\frac{1}{3}$ a. $\frac{1}{2}$



Back to School

E

Pilihlah pecahan berikut sesuai gambarnya dengan memberi tanda centang (✓)!

$\frac{1}{4}$



$\frac{1}{2}$



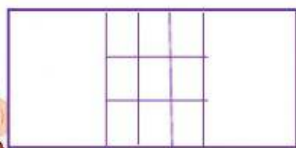
F

Pasangkan gambar berikut dengan pecahan yang sesuai!



$\frac{1}{3}$

$\frac{1}{2}$




Back to School

SBdP

G

Susunlah gambar berikut hingga menjadi gerak dasar tari kijang!

Klik/sentuh gambar, kemudian geser dan lepas diatas garis yang tersedia.



1

2

3

