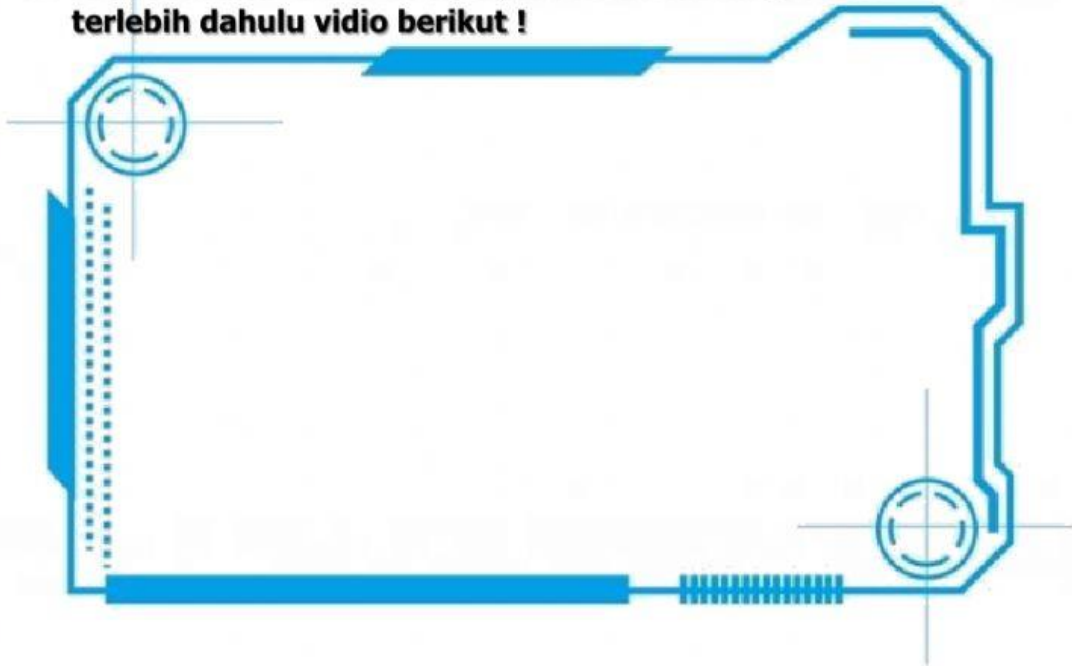





Nama Siswa :
Kelas :

A. Anak-anak sebelum mengerjakan soal latihan, simak terlebih dahulu video berikut !



B. Dengarkanlah lagu berikut ini !



C. Apa pesan yang terkandung dalam lagu tersebut !

Tuliskan dalam kotak di atas !

D. Perhatikan gambar berikut !

1. Gambar di bawah merupakan nama planet



2. Gambar di bawah merupakan nama planet



E. Pilihlah satu jawaban yang benar !

Yang termasuk kelompok **planet dalam** adalah

- Mercurius
- Saturnus
- Jupiter
- Uranus

F. Berilah tanda ceklis pada jawaban yang benar !

Yang termasuk kelompok **planet luar** adalah

- Bumi
- Saturnus
- Neptunus

G. Jodohkanlah sesuai dengan jawaban yang benar !

MERKURIUS
VENUS
BUMI

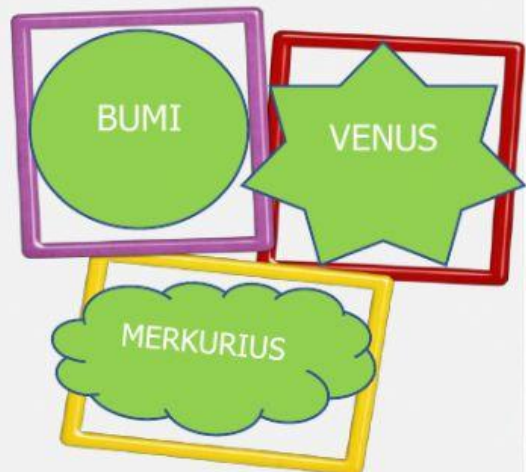
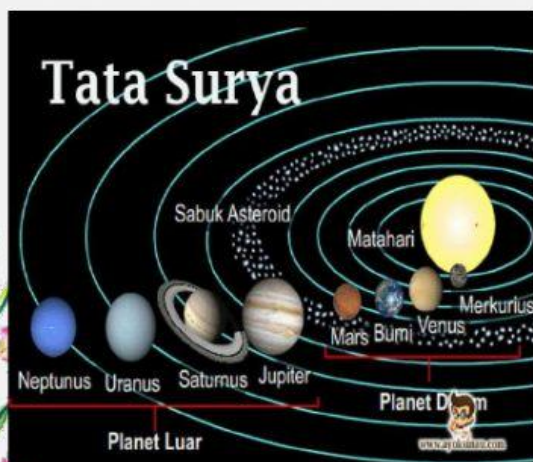
A. PLANET LUAR

JUPITER
SATURNUS
URANUS

B. PLANET DALAM

H. Klik / sentuh gambar, kemudian geser dan lepas di dalam kotak sesuai jawaban yang benar !

Berdasarkan gambar di bawah ini, urutan planet yang paling dekat dengan Matahari adalah



NO 1

NO 2

NO 3