

LKPD

NAMA :

KELAS :



**YUK BERLATIH
SOAL PECAHAN!**



1

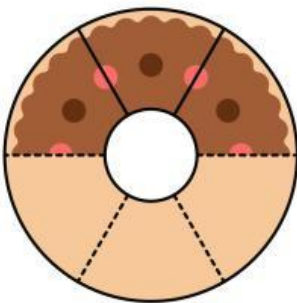


Ibu membagi sebuah pizza menjadi 8 bagian sama besar. Adik makan 2 bagian dari pizza tersebut.

1. Berapa bagian pizza yang dimakan Adik dalam bentuk pecahan?
2. Tentukan satu pecahan lain yang senilai dengan bagian pizza tersebut.



2

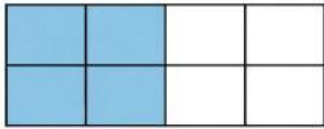


Satu roti berbentuk lingkaran dibagi menjadi 6 bagian sama besar. Adik memakan 3 bagian roti tersebut.

1. Tuliskan pecahan yang menunjukkan bagian roti yang dimakan adik.
2. Apakah pecahan tersebut senilai dengan $\frac{1}{2}$? Jelaskan secara singkat dan menggunakan cara!



3



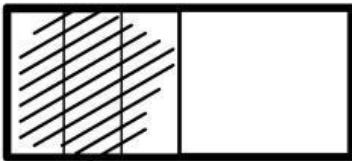
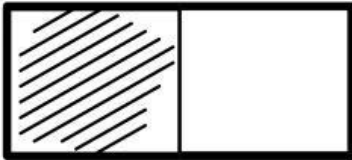
Sebuah bangun datar persegi panjang dibagi menjadi 8 bagian sama besar. Jika 4 bagian diarsir, tentukan:

- 1 Pecahan bagian yang diarsir.
- 2 Satu pecahan lain yang senilai.





4



Perhatikan dua gambar berikut:

- Gambar Atas: Persegi panjang dibagi 2 bagian, 1 bagian diarsir
- Gambar Bawah: Persegi panjang dibagi 6 bagian, 3 bagian diarsir

Apakah kedua gambar menunjukkan pecahan yang senilai? Klik salah satu kotak untuk menentukan jawaban!



YA



TIDAK

5

Tuliskan kesimpulan kelompokmu tentang apa yang dimaksud dengan pecahan senilai dan kegunaannya dalam kehidupan sehari hari, berdasarkan kegiatan yang telah dilakukan.

