

TEMA 9 KAYANYA NEGERIKU

SDN WONOREJO 01

Resty Kartikasari, S. Pd

IPA
KD 3.5

4

Nama :

Kelas :

No. abs:

Agar lebih semangat, nyanyi dulu yuk!

Klik!



Simak video dibawah ini!



1. Sumber energi terbesar di bumi adalah ...

2. Segala sesuatu yang dapat menghasilkan energi disebut ...

**Drop
Down**

MENJODOHKAN

Hubungkan gambar peralatan elektronik dan perubahan energi listrik yang terjadi dengan cara menarik garis!



PANAS



BUNYI



CAHAYA



KIMIA



GERAK

PILIHAN GANDA

1. Contoh benda yang mengalami perubahan energi listrik menjadi energi kimia yaitu . . .

- a. setrika
- b. blender
- c. lampu
- d. charger batu baterai



2. Salah satu sumber energi yang tidak dapat diperbarui adalah . . .

- a. Minyak bumi
- b. Matahari
- c. angin
- d. Panas bumi



DRAG AND DROP

Lengkapilah soal dibawah ini dengan jawaban yang tepat!



MENJADI

PANAS

KIMIA

LISTRIK






GERAK



MENJADI

CHECK LIST

Berilah tanda centang pada kotak dari gambar dan pernyataan yang sesuai!

No.	Kegiatan	Sumber Energi yang Digunakan	Perubahan Energi
1.		Energi angin	Energi angin menjadi energi panas
2.		Energi listrik	Energi listrik menjadi energi panas
3.		Energi panas	Energi panas menjadi energi listrik
4.		Energi panas matahari	Energi panas menjadi energi kimia
5.		Energi listrik	Energi listrik menjadi energi kinetik

☐
☐
☐
☐
☐