

# E-LKPD MATEMATIKA

Penjumlahan dan Pengurangan

Fase A kelas 2

$\pi = 3,14$

$$10 + 4 =$$
$$17 - 5 =$$



Disusun Oleh : Suci cahaya mentari

Nama :

Kelas:

# Operasi Penjumlahan Dengan Cara Menghitung Maju

hitunglah operasi penjumlahan berikut dengan  
menghitung maju

10

11

12

13

14

15

16

17

18

19

20

$\pi$

$$10 + 5 = \dots\dots$$

$$13 + 4 = \dots\dots$$

$$15 + 3 = \dots\dots$$

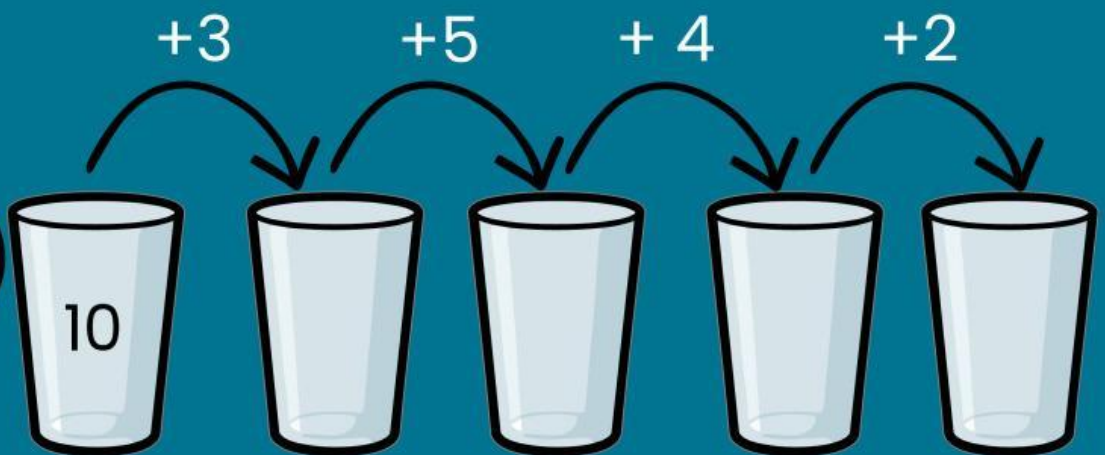
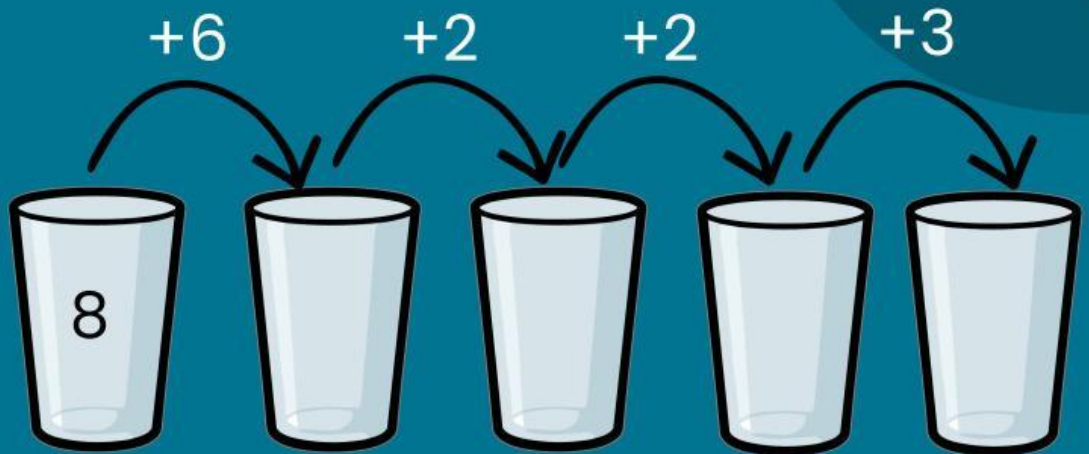
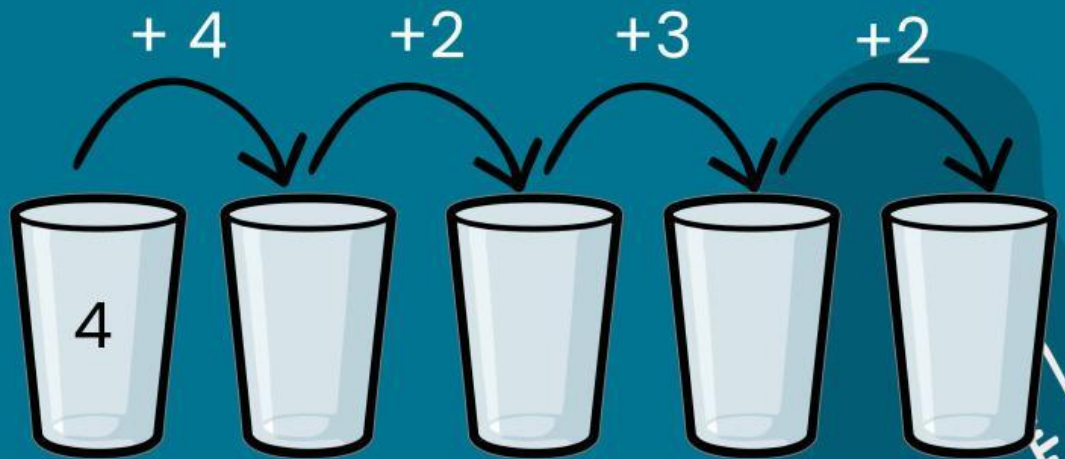
$$12 + 4 = \dots\dots$$

$$11 + 9 = \dots\dots$$

$$14 + 4 = \dots\dots$$

# Penjumlahan

Isilah gelas sesuai dengan hasil penjumlahan



Nama :

Kelas:

# Operasi pengurangan dengan cara menghitung mundur

hitunglah operasi pengurangan berikut dengan  
menghitung mundur

7

8

9

10

11

12

13

14

15

16

17



$$9 - 2 = \dots\dots$$



$$14 - 5 = \dots\dots$$



$$12 - 4 = \dots\dots$$



$$13 - 6 = \dots\dots$$


$$17 - 4 = \dots\dots$$

$$15 - 7 = \dots\dots$$



# Pasangan bilangan


Tuliskan pasangan bilangan sesuai jumlah dibawah ini!



5

2


3



7

3


.....



10

6

.....



6

2

.....



