

LKPD

BILANGAN DAN BERHITUNG

DI SEKOLAH DASAR




Nama :


Kelas :

Panduan Pengerjaan LKPD

- 1. Mulailah aktivitas mengucapkan salam atau doa sesuai keyakinan masing masing.**
- 2. Perhatikan dengan seksama setiap intruksi yang tercantum dalam lembar kerja.**
- 3. Kerjakanlah seluruh kegiatan atau tugas secara sistematis, mengikuti alur yang telah dicantumkan.**
- 4. Mintalah bantuan atau konfirmasi kepada Bapak/Ibu Guru apabila terdapat arahan yang belum jelas.**



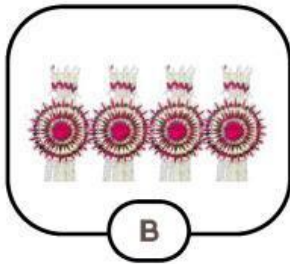
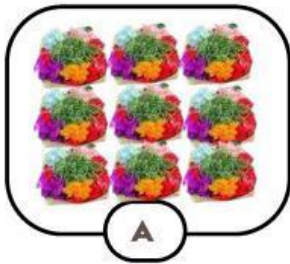
Ayo, hitung dengan cermat dan teliti!



Hitung dengan benar ya anak anak

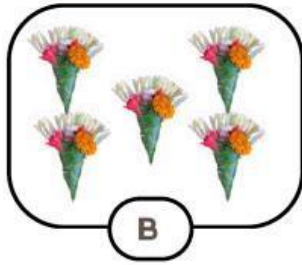
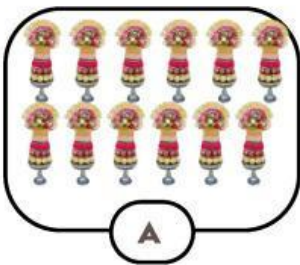


Ayo bandingkan jumlah benda berikut ini



Benda mana yang jumlahnya lebih banyak?

Benda mana yang jumlahnya lebih sedikit?

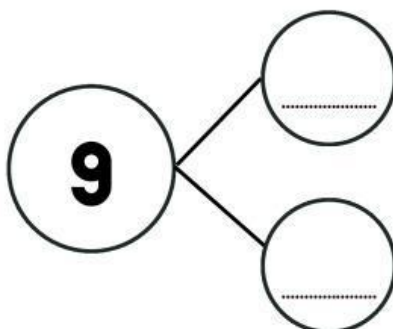

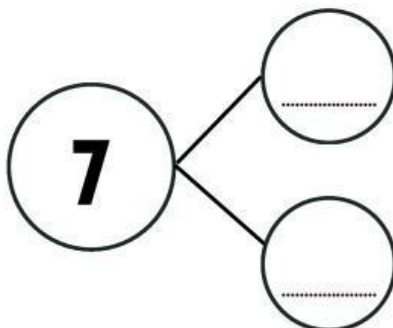

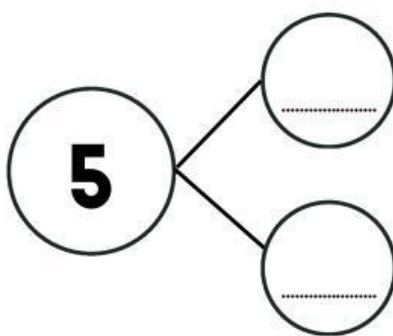



Benda mana yang jumlahnya lebih banyak?

Benda mana yang jumlahnya lebih sedikit?



Ayo temukan pasangan bilangan berikut!



semangat jawab yang benar



Penjumlahan Sederhana

Lengkapilah kolom di bawah ini
dengan benar!

$2 + 6 =$

$3 + 3 =$

$4 + 3 =$

$8 + 1 =$

$5 + 5 =$

$3 + 5 =$

$1 + 4 =$

$2 + 2 =$

$7 + 3 =$

$4 + 5 =$

Kerjakan dengan
hati hati yaa



Dasar Operasi Pengurangan

Hitung objek lalu tulis jumlahnya setelah dikurangi!



3



Dasar Operasi Perkalian Dan Pembagian

Lengkapilah kolom di bawah ini dengan benar!

$$2 \times 5 = 2 + 2 + 2 + 2 + 2 = 10$$

$$3 \times 4 = \quad = \quad$$

$$4 \times 6 = \quad = \quad$$

$$7 \times 2 = \quad = \quad$$

$$8 \times 3 = \quad = \quad$$

$$4 : 2 = 4 - 2 - 2 = 2$$

$$10 : 2 = 10 - 2 - 2 - 2 - 2 - 2 = 5$$

$$9 : 3 = \quad = \quad$$

$$12 : 4 = \quad = \quad$$

$$15 : 5 = \quad = \quad$$

$$12 : 3 = \quad = \quad$$

