

LEMBAR KERJA PESERTA DIDIK

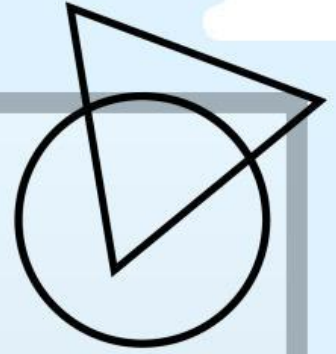
Tema :

Geometri di Kelas Awal SD

Nama :

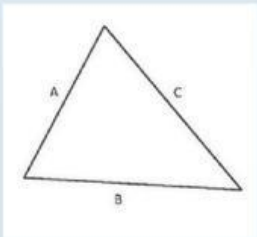
Kelas :

Tebak bentuk



Gambar di samping ini menunjukkan seperti bentuk???

Jawab :



Segitiga di samping menunjukkan segitiga....???

Jawab :



Gambar di samping ini menunjukkan seperti bentuk???

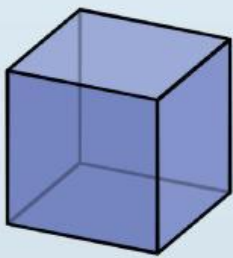
Jawab :



Cocokkan gambar



Lingkaran



Kerucut



persegi



Kubus

