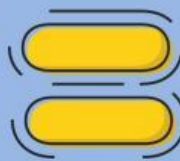
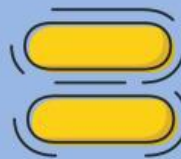


1

Ibu membeli 12 permen yang akan dibagikan sama rata kepada 4 anak. Setiap anak akan mendapatkan.... permen yang sama rata.

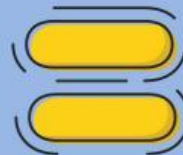
3**4****6****7****12 : 4****2**

Pak Budi memiliki 20 roti dan ingin membagikannya kepada 5 tamu secara sama banyak. Setiap tamu mendapatkan...kue.

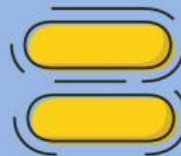
5**6****4****7****20 : 5**

3

Ani memiliki 18 pensil yang akan dimasukkan ke dalam 3 kotak dengan jumlah yang sama. Setiap kotak berisi...pensil.

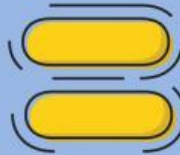
1**2****5****6** **$18 : 3$** **4**

Di kelas terdapat 24 buku yang akan dibagikan kepada 6 siswa. Jadi berapa banyak setiap siswa menerima buku...

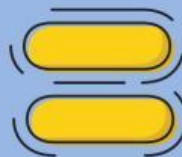
4**6****3****8** **$24 : 6$** 

5

Ibu guru membawa 16 apel untuk dibagikan kepada 4 kelompok belajar. Setiap kelompok mendapatkan....biji apel.

2**3****4****6****16 : 4****6**

Pak Andi memiliki 30 jeruk yang akan dibagikan kepada 5 orang tetangganya sama rata. Setiap tetangga Pak Andi akan mendapatkan....buah jeruk.

5**4****6****8****30 : 5**

7

Terdapat 21 bola yang dimasukkan ke dalam 7 keranjang. Setiap keranjang memperolehbola.

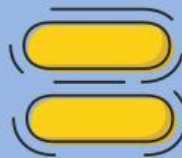
2

3

5

9

$21 : 7$



8

Siti membawa 28 kue untuk dibagikan kepada 4 teman. Setiap teman akan mendapatkan....kue.

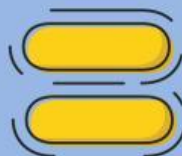
5

8

3

7

$28 : 4$



9

Sebuah toko memiliki 36 botol minuman yang akan disusun ke dalam 6 rak sama banyak.

Setiap rak berisi...botol.

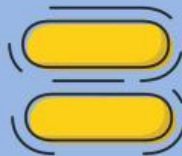
2

4

6

10

$36 : 6$



10

PakDeni menyiapkan 40 hadiah untuk 8 anak. Jadi setiap anak akan mendapatkan....hadiah.

3

5

7

9

$40 : 8$

