

LKPD

Matematika

Cerita Pengurangan

$$8 - 5 = ?$$
$$7 - 2 = ?$$



Nama:

Kelas:

Capaian Pembelajaran

Menunjukkan pemahaman dan memiliki intuisi bilangan (number sense) pada bilangan cacah sampai 100; membaca, menulis, menentukan nilai tempat, membandingkan, mengurutkan, serta melakukan komposisi (menyusun) dan dekomposisi (mengurai) bilangan; melakukan operasi penjumlahan dan pengurangan menggunakan benda-benda konkret yang banyaknya sampai 20;

Tujuan Pembelajaran

1. Peserta didik mampu melakukan pengurangan sampai dengan berdasarkan cerita dengan menggunakan benda kongret atau gambar 10 (C3)
2. Peserta didik mampu menuliskan kalimat matematika dari cerita pengurangan dengan menggunakan simbol "-" dan "=" setelah mengamati benda kongret atau gambar. (C3)
3. Peserta didik mampu menyelesaikan soal cerita pengurangan sampai bilangan 10 dengan bantuan benda kongkret atau gambar (C3)

Petunjuk Pengerjaan



1. Berdoa sebelum mengerjakan lembaran soal.
2. Isilah identitas seperti nama dan kelas.
3. Baca dan cermati soal dengan teliti.
4. Tulislah jawaban yang benar pada kolom yang telah disediakan.
5. Jika ada yang tidak dipahami, silahkan bertanya kepada guru.
6. Mulailah mengerjakan LKPD dengan bersungguh-sungguh.



Nama :



Kelas :



melakukan pengurangan sampai dengan 10 menggunakan gambar

Amati gambar dan lengkapi operasi pengurangannya

1.  $-$  $=$

2.  $-$  $=$

3.  $-$  $=$

4.  $-$  $=$

Nama :

Kelas :

Menuliskan kalimat matematika dari cerita

Petunjuk: Bacalah cerita berikut, lalu tuliskan kalimat matematika pengurangannya menggunakan simbol “-” dan “=”.

1. Dina memiliki 10 buah pena , kemudian 4 buah pena diberikan kepada temannya. Tuliskan kalimat matematikanya.

2. Di kotak pensil ada 7 pensil, lalu 2 pensil diambil. Tuliskan kalimat matematikanya.

3. Riko mempunyai 10 buah krayon, kemudian 3 buah krayon hilang. Tuliskan kalimat matematikanya

4. Sinta memiliki 8 buah pensil warna, lalu ia meminjamkan pada temanya 5 buah pensil warna . Tuliskan kalimat matematikanya.

5. Di rak buku ada 6 buku, kemudian 3 buku dipinjam teman. Tuliskan kalimat matematikanya.

Nama:

Kelas:

Menyelesaikan soal cerita pengurangan sampai bilangan 10

Petunjuk : Cocokkan cerita pengurangan dengan kalimat matematika dan hasil yang benar

Di meja Rini ada 7 buah pensil. Dia memberi 2 pensil kepada teman-temannya.

$$9 - 4 = 5$$

Sisa 5 buah

Pak Budi ada 9 pena , ia menggunakan 4 buah pena untuk menandai tugas .

$$10 - 5 = 5$$

Sisa 5 buah

Ada 10 buah pensil warna , Anisa pakai 5 untuk melukis.

$$7 - 2 = 5$$

Sisa 5 buah

Kelas 1 punya 6 spidol , lalu ada 3 buah spidol yang sudah habis tintanya.

$$8 - 3 = 5$$

Sisa 5 buah

Nilk memiliki 8 buah pena ,lalu 3 buah pena dipinjam teman sekelas

$$6 - 3 = 3$$

Sisa 3 buah