

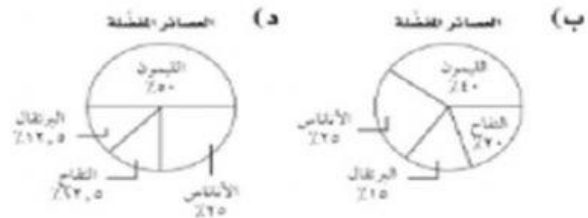
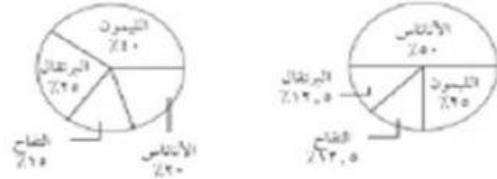
اختر الإجابة الصحيحة:

١ سأل ماجد طلاب فصله عن أنواع العصائر المفضلة لديهم، فكانت النتائج كما في الجدول الآتي:

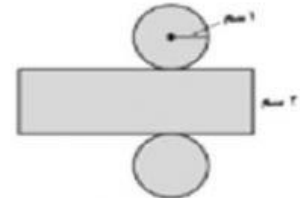
أنواع العصائر المفضلة				
نوع العصير	البرتقال	الليمون	الأناناس	التفاح
عدد الطلاب	٣	١٢	٦	٣

أي التمثيلات الآتية يعرض هذه البيانات؟

(أ) العسائر المفضلة (ب) العسائر المفضلة (ج) العسائر المفضلة (د) العسائر المفضلة



٢ عند طي المخطط أدناه تكون أسطوانة، فما المساحة الكلية التقريبية لسطح هذه الأسطوانة؟



- (أ) ٦, ٣ سم^٢ (ب) ١٨, ٨ سم^٢
 (ج) ٢١, ٣ سم^٢ (د) ٤٢, ٦ سم^٢

٣ ما أساس المتابعة الحسابية: ٢٠، ١٦، ١٢، ٨، ...

- (أ) ٢٠ (ب) ٤ (ج) ٢ (د) ٤-

٤ كان معدل درجات دُعاء في الرياضيات ٨٢، أي الطالبات فيما يأتي لها المعدل نفسه؟

- (أ) حصلت آمنة على ما مجموعه ٤٩٢ درجة في ٦ اختبارات.
 (ب) حصلت رغد على ما مجموعه ٣٥٢ درجة في ٤ اختبارات.
 (ج) حصلت إيناس على ما مجموعه ٤٦٨ درجة في ٦ اختبارات.
 (د) حصلت زينة على ما مجموعه ٣٤٤ درجة في ٤ اختبارات.

٥ إذا كان احتمال أن يسجل رائد هدفًا في مباراة هو $\frac{3}{5}$ ، فكم هدفًا تتوقع أن يسجل في ٦٠ مباراة؟

- (أ) ٥٠ (ب) ٣٦
 (ج) ٣٠ (د) ٢٤

٦ يوضح الجدول أدناه جميع النتائج الممكنة لثلاثة مفاتيح كهربائية من حيث كونها مفتوحة أو مغلقة.

مفتاح ٣	مفتاح ٢	مفتاح ١
مفتوح	مفتوح	مفتوح
مغلق	مفتوح	مفتوح
مفتوح	مغلق	مفتوح
مغلق	مغلق	مفتوح
مفتوح	مفتوح	مغلق
مغلق	مفتوح	مغلق
مفتوح	مغلق	مغلق
مغلق	مغلق	مغلق

- إذا اختيرت عينة عشوائية، فأأي العبارات الآتية صحيحة؟
- (أ) احتمال أن تكون المفاتيح الكهربائية كلها مفتوحة، هو الاحتمال نفسه أن تكون كلها مغلقة.
- (ب) احتمال أن يكون مفتاح كهربائي واحد مفتوحًا، أكبر من احتمال أن يكون هناك مفتاحان مفتوحان.
- (ج) احتمال أن يكون لمفتاحين النتائج نفسها بالضبط هو $\frac{1}{3}$.
- (د) احتمال أن يكون مفتاح واحد على الأقل مفتوحًا أكبر من احتمال أن يكون مفتاح واحد على الأقل مغلقًا.

٧ أجريت دراسة إحصائية على ٣٢ طالبًا حول مادتهم المفضلة، فأجاب ١٤ منهم أنهم يفضلون العلوم، فكم تتوقع أن يكون عدد الطلاب الذين يفضلون مادة العلوم، إذا كان عدد الطلاب الكلي ٨٨٠ طالبًا؟

(أ) ٤٩٥ (ب) ٢٨١

(ب) ٣٨٥ (د) ١٣٢