


LKPO

ILMU PENGETAHUAN ALAM

SISTEM EKSKRESI MANUSIA

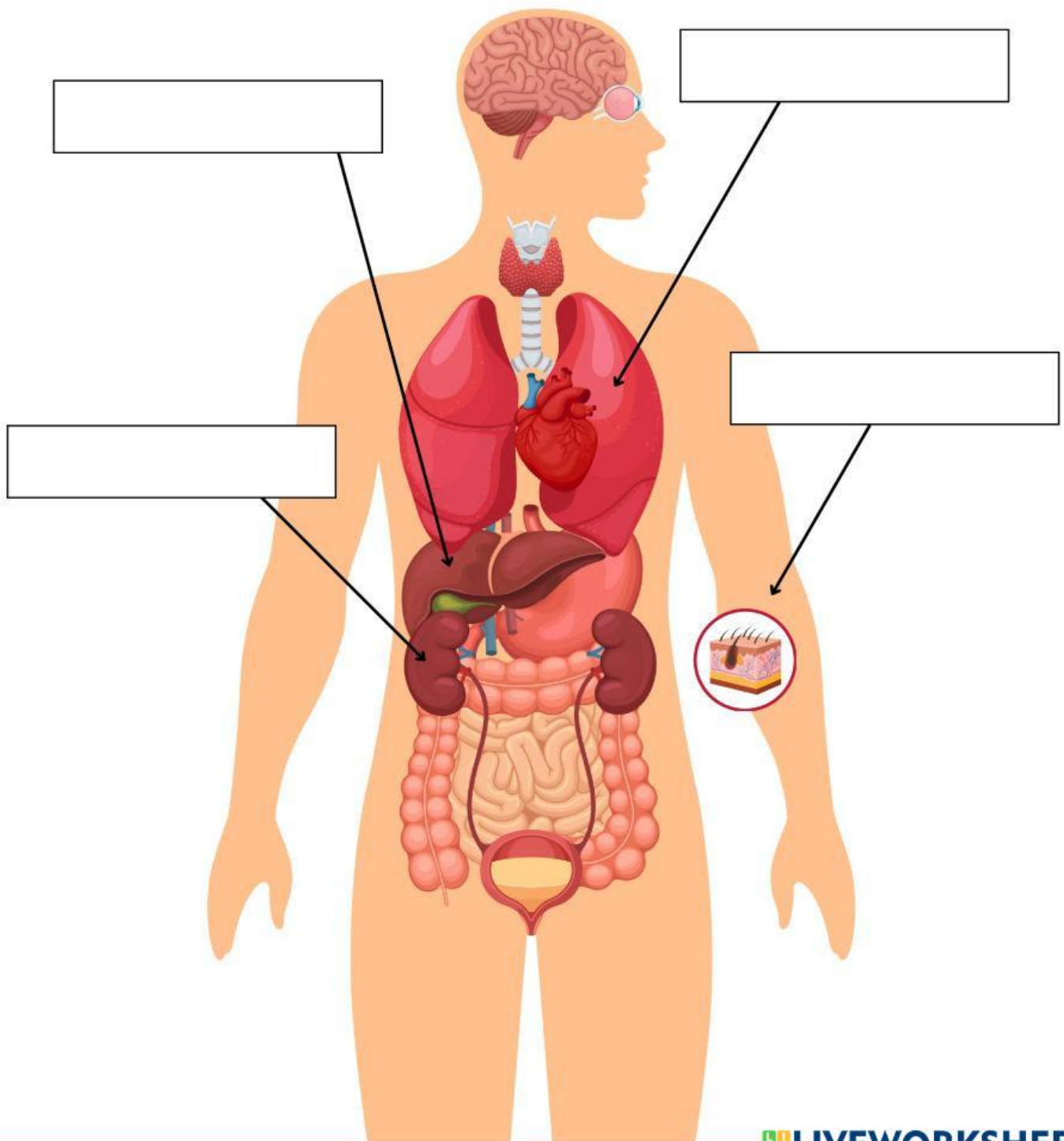


Nama:

Kelas:

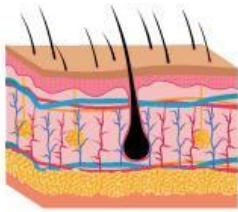
LEMBAR KERJA 1 – KENALI ORGAN EKSKRESI

Amati gambar organ ekskresi manusia berikut ini! Tuliskan nama organ yang ditunjuk sesuai dengan penanda.



LEMBAR KERJA 2 – ORGAN DAN ZAT SISA

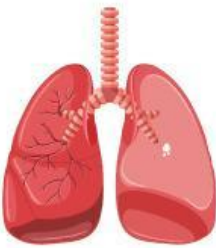
Tuliskanlah nama dan fungsi dari organ yang terlibat pada sistem ekskresi berikut ini beserta zat-zat yang dikeluarkannya!



Nama Organ : _____

Fungsi Organ : _____

Zat yang
dikeluarkan : _____



Nama Organ : _____

Fungsi Organ : _____

Zat yang
dikeluarkan : _____



Nama Organ : _____

Fungsi Organ : _____

Zat yang
dikeluarkan : _____



Nama Organ : _____

Fungsi Organ : _____

Zat yang
dikeluarkan : _____

LEMBAR KERJA 3 – ANALISIS GANGGUAN



Rina adalah seorang siswi SMP yang jarang minum air putih. Ia lebih sering minum minuman manis dan kemasan. Beberapa hari terakhir, Rina merasa nyeri saat buang air kecil, warna urin menjadi keruh, dan bau urin menyengat. Rina juga sering menahan buang air kecil saat berada di sekolah karena malas ke toilet.

1. Organ sistem ekskresi apa yang terganggu pada cerita tersebut?

2. Penyakit atau gangguan apa yang kemungkinan dialami Rina?

3. Tuliskan 2 gejala yang menunjukkan adanya gangguan sistem ekskresi!

4. Kebiasaan buruk apa yang dapat menyebabkan gangguan tersebut?

5. Tuliskan 2 cara menjaga kesehatan sistem ekskresi agar tidak mengalami gangguan tersebut!