

# LKPD

Lembar Kerja Peserta Didik

**Bilangan dan berhitung**



Nama :

\_\_\_\_\_

Kelas :



\_\_\_\_\_






## Tujuan Pembelajaran

Setelah mengerjakan LKPD ini, siswa diharapkan mampu:

1. Mengenal dan menggunakan bilangan cacah.
  2. Menentukan nilai tempat ratusan, puluhan, dan satuan.
  3. Melakukan penjumlahan dan pengurangan dengan benar.
  4. Memahami konsep perkalian dan pembagian.
  5. Menyelesaikan masalah matematika dalam kehidupan sehari-hari.
- 
- 



## Petunjuk Mengerjakan

1. Bacalah setiap soal dengan teliti.
  2. Kerjakan secara mandiri dan jujur.
  3. Gunakan cara bersusun jika diperlukan.
  4. Tulis jawaban dengan rapi.
- 






## A. Bilangan Cacah dan Nilai Tempat

1. Tuliskan bilangan sebelum 245!

Jawaban: \_\_\_\_\_

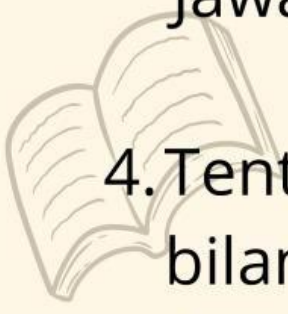
2. Tuliskan bilangan sesudah 399!

Jawaban: \_\_\_\_\_



3. Bilangan yang terdiri dari 5 ratusan, 2 puluhan, dan 8 satuan adalah ...

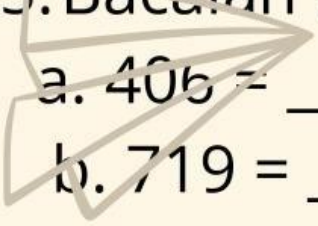
Jawaban: \_\_\_\_\_



4. Tentukan nilai tempat angka 7 pada bilangan 378!

Jawaban: \_\_\_\_\_

5. Bacalah bilangan berikut:




a. 406 = \_\_\_\_\_

b. 719 = \_\_\_\_\_


## B. Penjumlahan

Hitunglah hasil pembagian berikut!


$$\begin{array}{r} 1. \quad 234 \\ + 125 \\ \hline \end{array}$$

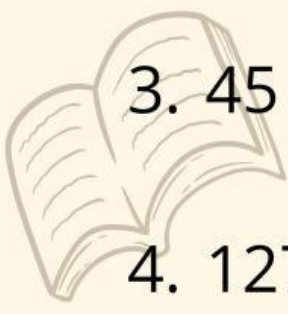
-----

\_\_\_\_\_


$$\begin{array}{r} 2. \quad 468 \\ + 279 \\ \hline \end{array}$$

-----


\_\_\_\_\_


$$3. 45 + 36 = \underline{\hspace{2cm}}$$

$$4. 127 + 243 = \underline{\hspace{2cm}}$$

## C. Pengurangan

Hitunglah hasil pembagian berikut!



$$\begin{array}{r} 1. \quad 754 \\ - 321 \\ \hline \end{array}$$

-----

\_\_\_\_\_



2.  $603$   
 $- 278$   
-----  
\_\_\_\_\_



3.  $84 - 39 =$  \_\_\_\_\_



4.  $700 - 256 =$  \_\_\_\_\_



## D. Perkalian

Hitunglah hasil pembagian berikut!



1.  $3 \times 4 =$  \_\_\_\_\_



2.  $5 \times 6 =$  \_\_\_\_\_

3.  $4 \times 8 =$  \_\_\_\_\_

4.  $7 \times 3 =$  \_\_\_\_\_








## E. Pembagian

Hitunglah hasil pembagian berikut!

$$1. 12 \div 3 = \underline{\hspace{2cm}}$$

$$2. 20 \div 5 = \underline{\hspace{2cm}}$$


$$3. 24 \div 6 = \underline{\hspace{2cm}}$$

$$4. 30 \div 5 = \underline{\hspace{2cm}}$$



## F. Soal Cerita

1. Ibu membeli 4 kantong apel. Setiap kantong berisi 6 apel. Berapa jumlah apel ibu seluruhnya?

Jawaban:                     

2. Andi memiliki 20 permen. Permen tersebut dibagikan sama banyak kepada 4 temannya. Berapa permen yang diterima setiap teman Andi?

Jawaban:



## Refleksi Diri

Berilah tanda centang (✓) pada pernyataan berikut!

- ☐ Saya sudah memahami bilangan dan nilai tempat.
- ☐ Saya bisa melakukan penjumlahan dan pengurangan.
- ☐ Saya mulai memahami perkalian dan pembagian.
- ☐ Saya senang belajar matematika hari ini.



**Selamat kamu telah menyelesaikan LKPD**