

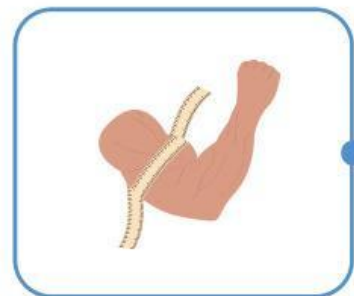
Nama :

Kelas :

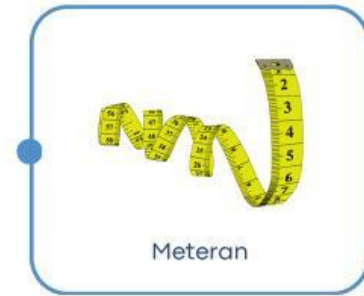
PENGUKURAN PANJANG BENDA

Kerjakan soal-soal berikut sesuai perintahnya!

- A. Pasangkan gambar pengukuran panjang benda dengan alat ukur yang tepat.



Penggaris



Meteran




Meteran gulung



Pengukur tinggi badan

B. Tulislah hasil pengukuran panjang berikut.

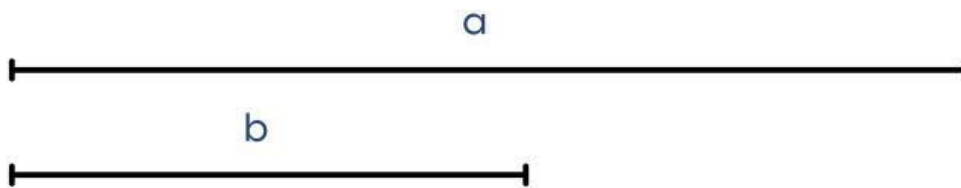


1. Panjang pensil = cm.

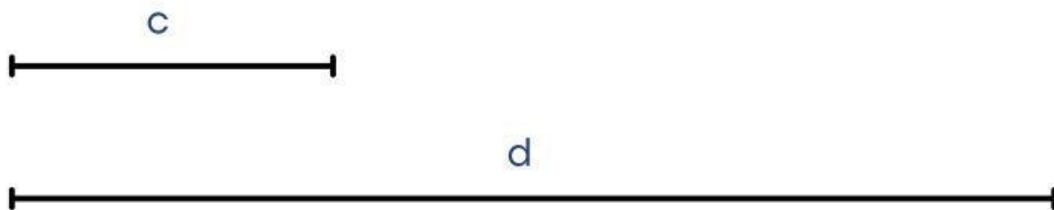


2. Panjang pensil = cm.

C. Perkirakan selisih panjang kedua garis berikut. Setelah itu, periksalah panjang sebenarnya menggunakan penggaris.



1. Garis a kira-kira lebih panjang cm dari garis b.
Selisih panjang kedua garis sebenarnya adalah cm.



2. Garis c kira-kira lebih panjang cm dari garis d.
Selisih panjang kedua garis sebenarnya adalah cm.