


Nama :

Kelas :



LEMBAR EVALUASI







1. Perhatikan gambar data berikut ini dan jawablah pertanyaannya!



- Berapa banyak pensil merah?
- Berapa banyak pensil kuning?
- Pensil mana yang lebih banyak? Pensil merah atau pensil kuning?
- Pensil warna yang paling banyak adalah
- Pensil warna yang paling sedikit adalah
- Berapa jumlah pensil hitam dan pensil merah?

2. Perhatikan tabel dan jawablah pertanyaannya !

Tabel Mainan Kesukaan

Mainan	 Boneka	 Gasing	 Kelereng	 Bola
Banyak anak	3	5	4	6

- Ada berapa anak yang suka boneka?
- Ada berapa anak yang suka bola?
- Apa nama mainan yang paling disukai?
- Berapakah jumlah semua anak?

