



**LKPD**

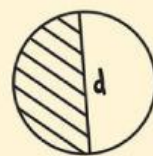
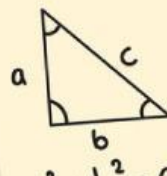
**MATEMATIKA**

**KELAS IV**

**BANGUN DATAR SEGIEMPAT**

**NAMA:**

**KELAS:**



# IDENTITAS KELOMPOK

NAMA ANGGOTA KELOMPOK



- 1.
- 2.
- 3.
- 4.
- 5.





# TUJUAN PEMBELAJARAN

Melalui kegiatan dalam LKPD ini, peserta didik diharapkan dapat:

1. Peserta didik dapat mengenal ciri-ciri berbagai jenis segiempat. (C1)
2. Peserta didik dapat mengidentifikasi jenis segiempat yang ada berdasarkan ciri-cirinya. (C3)
3. Peserta didik dapat membandingkan ciri-ciri segiempat dengan tepat. (C4)

# PETUNJUK PENGGUNAAN


1. Bacalah petunjuk pengerjaan LKPD dengan cermat sebelum memulai.
2. Gunakan alat tulis, penggaris, dan gunting sesuai kebutuhan kegiatan.
3. Kerjakan LKPD ini secara berkelompok sesuai arahan guru.
4. Diskusikan jawaban bersama teman kelompok secara aktif dan saling menghargai pendapat.
5. Tanyakan kepada guru jika ada bagian yang belum kamu pahami.
6. Isilah semua kolom atau tabel yang tersedia dengan rapi dan jelas.
7. Periksa kembali hasil kerja sebelum diserahkan kepada guru.



# LKPD

## BANGUN DATAR


Tuliskan nama-nama bangun datar di bawah ini.




# CIRI-CIRI BAGUN DATAR



Ayo, perhatikan gambar bangun datar di sebelah kiri dan daftar ciri-cirinya di sebelah kanan!



- Memiliki 4 buah sisi yang sama panjang
- Memiliki dua garis diagonal yang berpotongan tegak lurus



- Memiliki 4 sisi sama panjang
- Memiliki 4 sudut siku-siku yang sama besar



- Memiliki sepasang sisi berhadapan sama panjang
- Memiliki dua pasang sudut yang sama besar
- Memiliki kaki yang sama panjang



## MEMBANDINGKAN CIRI-CIRI PERSEGI

Jawablah perbandingan berikut dengan benar!

1. Bandingkan persegi dan persegi panjang!

- Apa persamaannya?

- 

.....

- Apa perbedaannya?

- 

.....

2. Bandingkan jajar genjang dan belah ketupat!

- Apa persamaannya?

- 

.....

- Apa perbedaannya?

- 

.....