

LKPD BILANGAN BULAT



Disusun oleh:

**GITA AZZAHRA
NAIWA LAYALY TAMA
RUNI REZA AINAYA
HILVI LUBABIL FIKRI**



1

TEKFIELD

BILANGAN YANG TIDAK BERUPA BILANGAN DESIMAL ATAU BERUPA BENTUK PECAHAN DISEBUT



2

SINGLE CHIOCE

YANG BUKAN MERUPAKAN JENIS BILANGAN BULAT ADALAH



3

CHECKBOXES

PERNYATAAN YANG BENAR ADALAH



$2+2=4$



$2-7=5$




$6-2=14$

4

SELECT

HASIL DARI $-10+12=...$



30



22



2

5

WORD SEARCH


S	A	T	U	E
X	R	I	G	M
I	K	G	D	P
J	E	A	U	A
L	I	M	A	T

TEMUKAN 5 ANGKA PADA
KOTAK DISAMPING

6

SPEAK


SEBUTKAN BILANGAN BERIKUT INI DENGAN TEPAT



7

LISTENING

DENGARKAN SUARA BERIKUT DAN TULISKAN JAWABANNYA



8

DRAG & DROP

GESER ANGKA BERIKUT PADA SOAL YANG TEPAT

$$(-4)+5=$$

9

$$4-5=$$

1

$$4-(-5)=$$

-1

9

JOIN

TARIK GARIS SOAL BERIKUT KE JAWABAN YANG BENAR

$$(-4)+5=$$

9

$$4-5=$$

1

$$4-(-5)=$$

-1