

<b>SDN 112 SATTULU</b> <b>SUMATIF AKHIR SEMESTER GANJIL</b> <b>TAHUN PELAJARAN 2025/2026</b> Mata Pelajaran : SENI RUPA Kelas : V (lima) Waktu : 90 menit Tanggal : 11 Desember 2025	Nama :
	No. Absen :
	Nilai :

**A. Berilah tanda silang (X) pada huruf a, b, c, atau d sesuai jawaban yang paling tepat!**

- Berikut yang termasuk unsur seni rupa adalah ....
  - ritme
  - kesatuan
  - ruang
  - keseimbangan
- Karya Seni Rupa yang memperhatikan ketepatan ukuran objek yang satu dibandingkan dengan yang lainnya berarti menerapkan prinsip....
  - ritme
  - kesatuan
  - proporsi
  - keseimbangan
- Jenis garis yang dapat digunakan untuk menggambarkan ketinggian dan memberikan Kesan kokoh atau kuat dengan garis .... ....
  - vertikal
  - lengkung
  - horisontal
  - horisontal
- Unsur seni rupa yang dapat memberikan efek kesan mengenai sifat, keadaan, atau suasana tertentu pada sebuah karya seni disebut ..... .
  - Garis
  - Bentuk
  - Warna
  - ruang
- Prinsip seni rupa digunakan untuk ....
  - Membentuk suatu karya yang indah dan memukau
  - Membentuk karakter seniman yang kreatif
  - Membentuk suatu karya yang enak didengar
  - Membentuk suatu karya yang dapat dikenang

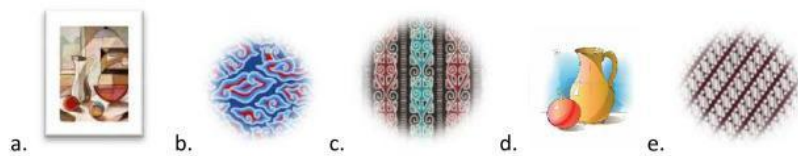
### B. Pilihan Ganda Kompleks

Berilah tanda silang (X) pada huruf a, b, c, atau d sesuai jawaban yang paling tepat, jawaban lebih dari satu!

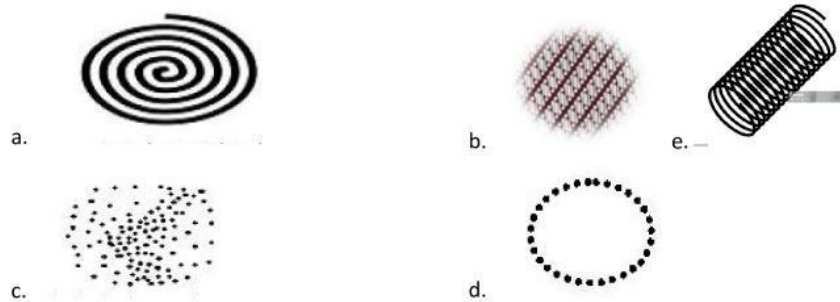
6. Dalam karya seni beberapa prinsip yang diterapkan untuk menciptakan pola yang menarik dan harmonis. Berikut yang termasuk jenis ritme dalam seni rupa adalah ...

- a. ritme ulang
- b. ritme mengalir
- c. ritme garis
- d. ritme warna
- e. ritme bentuk

7. Karya seni tradisional yang menerapkan prinsip ritme pada gambar berikut adalah ....



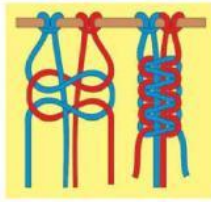
8. Berikut ini yang merupakan ritme dari unsur garis spiral adalah ....



9. Berikut ini adalah benda yang dibuat Bukan dengan teknik makrame adalah ....



10. Perhatikan gambar di bawah ini!



Gambar di atas menggunakan teknik mengikat dan menyimpul dengan ....

- a. Simpul kepala
- b. Simpul tunggal
- c. Simpul ganda
- d. Simpul cabang

### C. Isian

Isilah titik-titik berikut dengan jawaban yang tepat

- 11. Persegi, segitiga, dan lingkaran merupakan contoh dari bentuk....
- 12. Ruang kosong disekitar objek utama pada sebuah karya seni rupa disebut sebagai ruang ....
- 13. Prinsip seni rupa yang memperhatikan penyusunan elemen visual dalam karya seni berdasarkan kesamaan garis bentuk atau warna disebut dengan prinsip ....
- 14. Bentuk dasar yang digunakan untuk menggambar bulan atau matahari Adalah ...
- 15. Jenis warna yang mencerminkan keberanian, semangat, amarah, bahaya atau panas Adalah warna....

### D. Uraian

Jelaskan pertanyaan berikut dengan jawaban yang tepat!

- 16. Jelaskan perbedaan antara ritme mengalir dan berkembang!
- 17. Jelaskan pengertian ritme dalam seni rupa!
- 18. Sebutkan Jenis-jenis simpul dalam pembuatan karya seni!
- 19. Jelaskan arti Makrame!
- 20. Tuliskan 3 bahan alam untuk membuat makrame !

### E. Menjodohkan

21. Pasangkan jenis warna dan kesan yang ditimbulkan pada nama warna berikut !

jingga	●	●	Harapan, muda, subur, ketenangan
hijau	●	●	Cerah, kebahagiaan, menarik, perhatian
biru	●	●	Kesetiaan, kebenaran, damai

22. Pasangkan gambar berikut dengan unsur seni rupa yang sesuai .



warna



garis



bentuk



ruang

23. Pasangkan gambar berikut dengan jenis ritme yang digunakan dalam karya seni !



Ritme mengalir



Ritme berkembang




Ritme ulang

24. Hubungkan gambar berikut dengan nama motif kainnya !



Motif parang

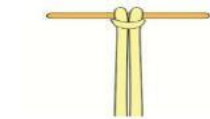


Motif dayak

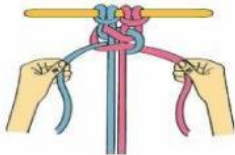


Motif mega mendung

25. Paasangkan gambar berikut dengan jenis simpulnya !



Simpul pengumpul



Simpul datar



Simpul kepala