

LKPD

LEMBAR KERJA PESERTA DIDIK

Tema 9 Subtema 1

Kekayaan Sumber Energi di Indonesia

By : I Ketut Darmawan, S.Pd
SD NEGERI 2 DANGIN PURI

NAMA

:

KELAS


:

NO. ABSEN :

KELAS IV SEMSTER 2

SUMBER ENERGI

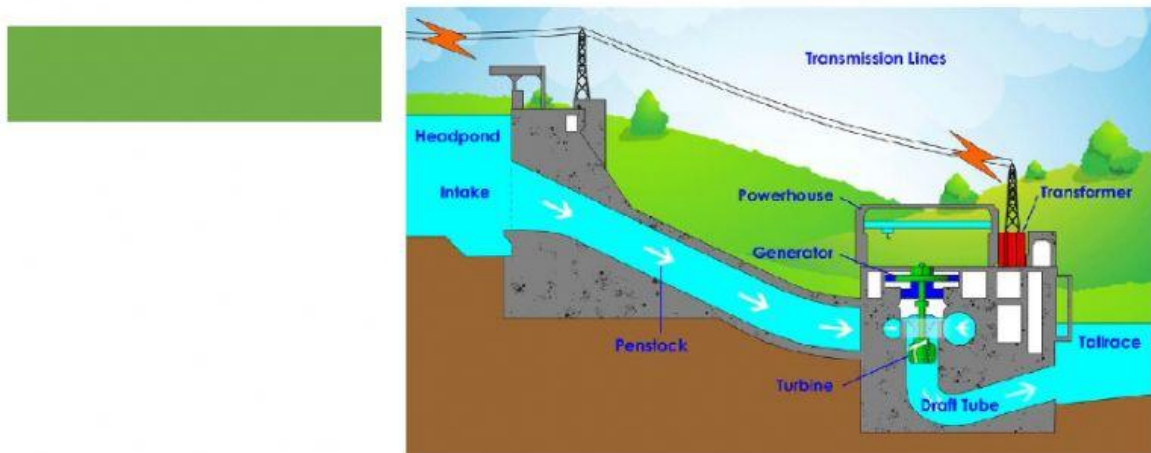
A. Perhatikan video pembelajaran berikut!



B. Tuliskan komentarmu berdasarkan video diatas sambil mendengarkan lagu berikut!

A large empty rectangular box with a thin black border, intended for students to write their comments.

C. Berdasarkan gambar berikut air dapat dimanfaatkan sebagai sumber energi



D. Dibawah ini yang termasuk sumber daya alam yang tidak dapat diperbaharui adalah

- ☐ Matahari
- ☐ Batubara
- ☐ Minyak bumi
- ☐ Gas alam

E. Berilah tanda  (centang) untuk jawaban yang sesuai!

Manfaat energi matahari bagi manusia yaitu :

| | |
|--------------------------|--|
| <input type="checkbox"/> | Mengeringkan benda-benda basah |
| <input type="checkbox"/> | Membantu proses fotosintesis |
| <input type="checkbox"/> | Membantu proses pembuatan garan |
| <input type="checkbox"/> | Untuk menjaga kesehatan tulang |

F. Pasangkan gambar berikut dengan jawaban yang sesuai dengan cara menarik garis!

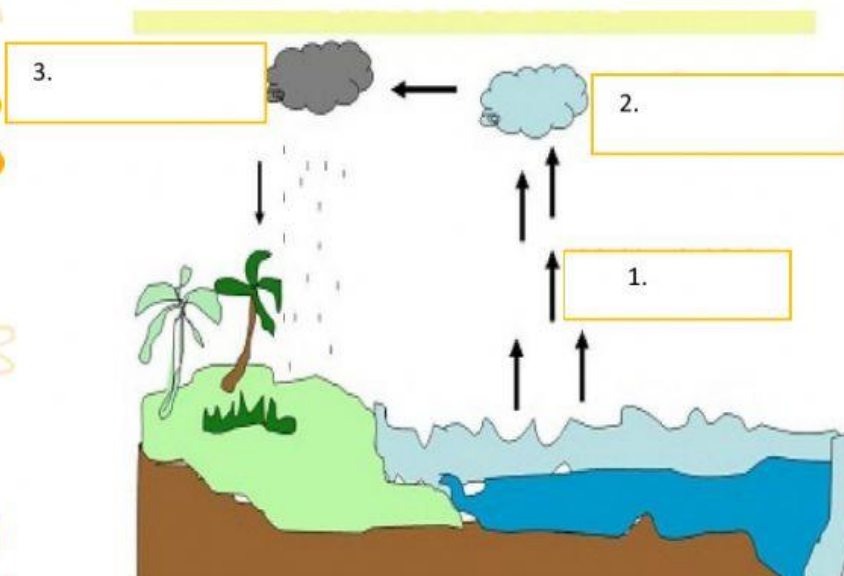


Sumber Energi
Yang Tidak Dapat
Diperbaharui



Sumber Energi
Yang Dapat
Diperbaharui

G. Urutkan proses terjadinya siklus air!



Air laut menguap

Hujan

Terbentuk awan

