



Lembar Kerja Peserta Didik

LKPD

Bangun Datar



Hari/Tanggal:

Kelompok :

1. _____
2. _____
3. _____
4. _____

Waktu Pengerjaan 20 Menit

Tujuan: Setelah mengerjakan LKPD siswa dapat memahami bentuk dan ciri-ciri bangun datar (Segiempat dan Segitiga)

A. Orientasi Peserta didik terhadap

- Perhatikan gambar dibawah ini

CIRI & SIFAT BANGUN DATAR

Cermati gambar dibawah kemudian tuliskan huruf sesuai dengan pasangan pernyataan yang benar!



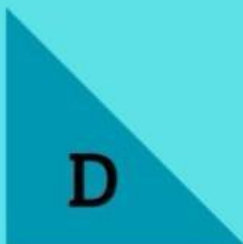
- Memiliki 4 sisi sama panjang
- Memiliki 4 sudut sama besar



- Memiliki 3 sisi sama panjang
- Memiliki 3 sudut sama besar



- Memiliki 4 sisi
- Memiliki sepasang sisi sejajar



- Memiliki 4 sisi
- Sisi yang berhadapan sama panjang dan sejajar



- Salah satu sudutnya adalah siku-siku
- Mempunyai 2 sisi yg saling tegak lurus

B.MENGORGANISASIKAN PESERTA DIDIK UNTUK BELAJAR

Jawablah pertanyaan di bawah ini dengan memberi tanda centang pada jawaban yang benar!

Benda di bawah ini yang termasuk bangun datar persegi adalah?

a



b



c



Benda di bawah ini yang termasuk bangun datar segitiga adalah?

a



b



c



Benda di bawah ini yang termasuk bangun datar layang-layang adalah?

a



b



c



Benda di bawah ini yang termasuk bangun datar persegi panjang adalah?

a



b



c





C.Penyelidikan Kelompok

MENEMUKAN CONTOH BENDA DI SEKITAR



Temukanlah benda di sekitar sesuai bangun datar di bawah ini!





D.MENGEMBANGKAN DAN MENYAJIKAN HASIL KARYA

**Presentasikan hasil dari LKPD
kelompok di depan kelas bergilir
secara berkelompok**

E.MENGANALISIS DAN MENGEVALUASI PROSES PEMECAHAN MASALAH

**Ceritakan kembali bagaimana cara
kamu menjawab lembar kerja peserta
didik dengan teman sekelompokmu**

