


LKPD

Matematika

Tema:
Pecahan



Nama:

Kelas:

Identitas

Penyusun	: Maharani Eka Putri
Instansi	: SD Negeri
Tahun Penyusunan	: 2025/2026
Jenjang Sekolah	: SD
Mata Pelajaran	: Matematika
Fase/Kelas:	: A/2 (Dua)
Alokasi Waktu	: 1 kali pertemuan/2x35 menit

Tujuan

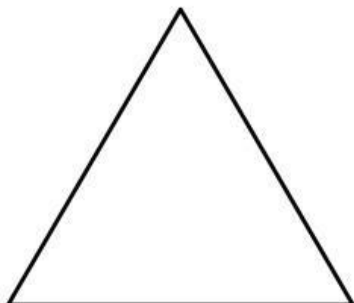


- 1. Peserta didik dapat menggunakan konsep pecahan setengah untuk menyelesaikan masalah sederhana pada benda utuh yang dibagi dua sama besar.**
- 2. Peserta didik dapat menjelaskan makna pecahan setengah pada benda utuh yang dibagi dua sama besar.**
- 3. Peserta didik dapat menerapkan pecahan setengah dengan membagi kumpulan benda menjadi dua bagian yang sama banyak.**
- 4. Peserta didik dapat membandingkan dua kelompok benda untuk menentukan bagian setengah dari suatu kumpulan.**
- 5. Peserta didik dapat menggunakan pecahan seperempat untuk menyelesaikan masalah pembagian benda menjadi empat bagian yang sama besar.**
- 6. Peserta didik dapat menjelaskan hubungan antara pecahan seperempat dengan ukuran bagian benda utuh.**

Petunjuk Pengerjaan

- 1. Berdoa sebelum mengerjakan lembaran soal.**
- 2. Isilah identitas seperti nama dan kelas.**
- 3. Bacalah setiap perintah pada LKPD dengan teliti sebelum mengerjakan.**
- 4. Perhatikan gambar-gambar yang tersedia pada setiap bagian.**
- 5. Ikuti setiap perintah yang ada pada setiap kegiatannya.**
- 6. Tuliskan jawaban yang benar pada kolom yang telah disediakan.**
- 7. Jika ada yang tidak dipahami, silahkan bertanya pada guru.**
- 8. Mulailah mengerjakan LKPD ini dengan sungguh-sungguh.**
- 9. Periksa kembali jawabanmu sebelum dikumpulkan.**



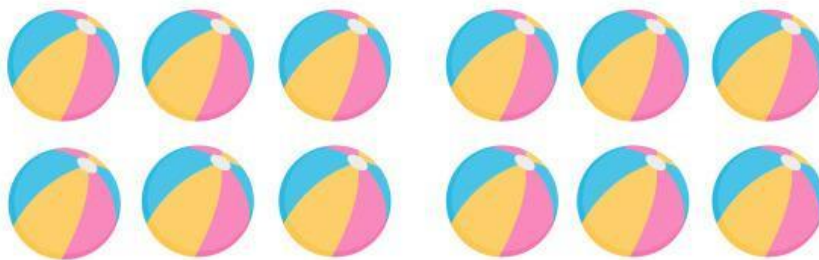

Setengah dari Benda Utuh

Tariklah garis sehingga gambar berikut menjadi 2 bagian sama besar.







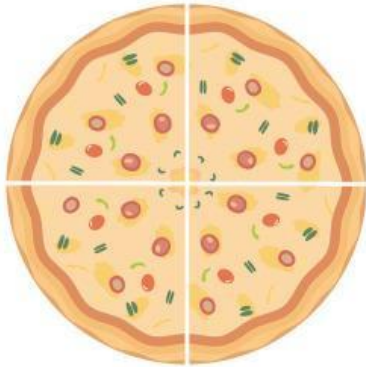
Mengelompokkan Benda Setengah

Lingkari/Pilihlah setengah dari banyak benda berikut!



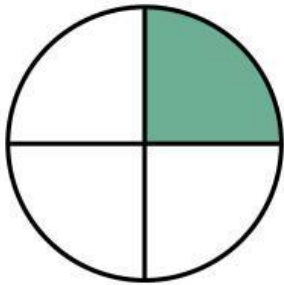
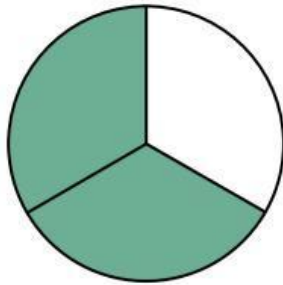
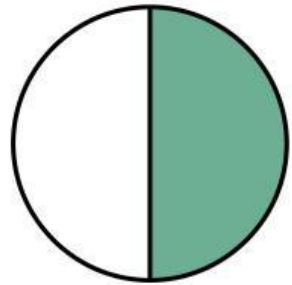
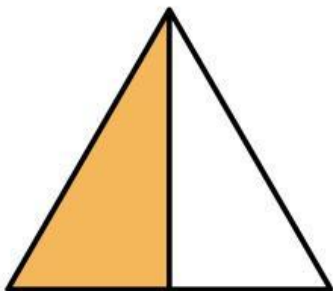
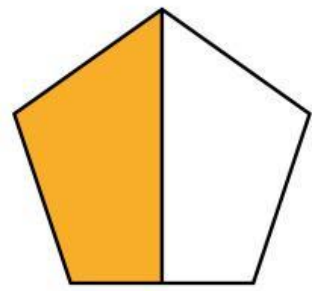
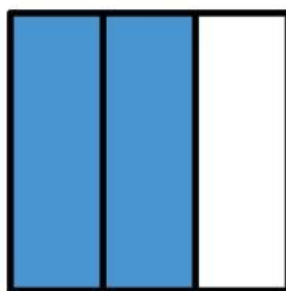
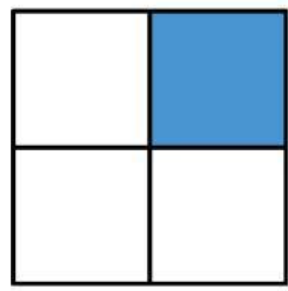
Setengah dari Benda Utuh

Tariklah garis sehingga gambar berikut menjadi 4 bagian sama besar.



Mengenal Pecahan Setengah dan Seperempat

Berikan tanda cetak (✓) pada gambar yang menunjukkan setengah dan seperempat bagian.

☐☐☐☐☐☐☐☐☐

Potongan Pizza

Tulislah pecahan yang sesuai dengan sisa potongan pizza. di bawah ini.

