

CENTRO PEDAGÓGICO ANTIGÜEÑO
"Y JARDÍN INFANTIL SNOOPY"

BLOQUE I

Sexto Primaria

Cátedra: Educación Musical

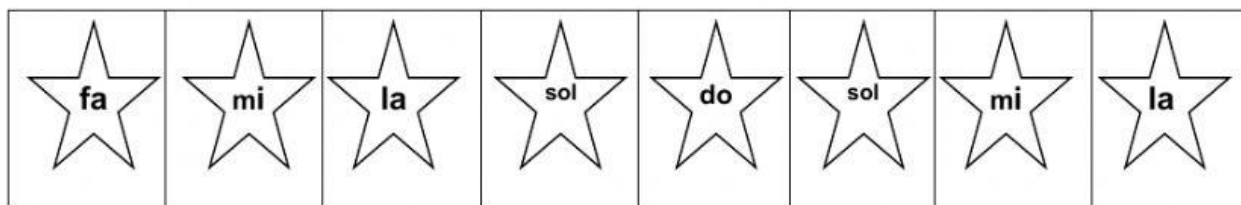

Profa. Sulma Carolina Martínez H.



Nombre: _____ Fecha: _____

Serie I. Valor 7 puntos.










Instrucciones: Arrastra cada estrellita hacia la figura redonda que corresponde según su nombre y su ubicación en el pentagrama.



Serie II. Valor 14 puntos.

Instrucciones: Llenar el siguiente cuadro arrastrando las figuras musicales que corresponden según su nombre, figura positiva ó negativa y su duración.

CUADRO DE FIGURAS MUSICALES (C.F)			
NOMBRES	FIGURAS POSITIVAS	FIGURAS NEGATIVAS	DURACIÓN
Redonda			4 tiempos
			
			1 tiempo
			
			

	Negra	Blanca	Corchea
			Semicorchea
		2 tiempos	
1/4 tiempo	1/2 tiempo		

Serie III. Valor 9 puntos.

Instrucciones: Colocar dentro de cada cuadro el dado con la cantidad correcta según la suma o resta musical.

$$\begin{array}{r} \text{♪} \\ + \text{♪} \\ \hline \square \end{array}$$

$$\begin{array}{r} \text{♪} \\ + \text{♪} \\ \hline \square \end{array}$$

$$\begin{array}{r} \text{♩} \\ + \text{♩} \\ \hline \square \end{array}$$

$$\begin{array}{r} \text{♪} \\ - \text{♪} \\ \hline \square \end{array}$$

$$\begin{array}{r} \text{♩} \\ - \text{♪} \\ \hline \square \end{array}$$

$$\begin{array}{r} \text{♪} \\ - \text{♩} \\ \hline \square \end{array}$$

$$\begin{array}{r} \text{♪} \\ + \text{♩} \\ \hline \square \end{array}$$

$$\begin{array}{r} \text{♩} \\ - \text{♪} \\ \hline \square \end{array}$$

$$\begin{array}{r} \text{♩} \\ - \text{♪} \\ \hline \square \end{array}$$

