

# LEMBAR KERJA PESERTA DIDIK

Fase A Kelas 2 Sekolah Dasar

Mengenal Bangun Datar  
(Segitiga, Segiempat,  
Segilima, Segienam)

Nama : .....

Kelas : .....

**Memberikan warna tiap bangun datar, kemudian tuliskan nama, jumlah sisi dan sudutnya**




### **A. Petunjuk Pelaksanaan**

1. **Amati setiap bangun datar yang ada pada LKPD.**
2. **Berikan warna yang berbeda untuk setiap bangun datar.**  
**Contoh: segitiga warna merah, segiempat warna biru, segilima warna hijau, segienam warna kuning. (Warna boleh dipilih sendiri oleh siswa.)**
3. **Setelah mewarnai, tuliskan: Nama bangun datar. Jumlah sisi, Jumlah sudut di tempat yang telah disediakan.**
4. **Kerjakan dengan rapi dan teliti.**
5. **Kumpulkan LKPD setelah selesai.**

**Selamat Bekerja!**



Berilah warna tiap bangun datar, kemudian tuliskan nama, jumlah sisi dan sudutnya




\_\_\_\_\_

**Sisi:**

**Sudut:**

\_\_\_\_\_

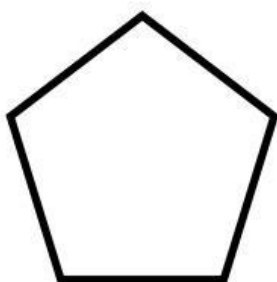


\_\_\_\_\_

**Sisi:**

**Sudut:**

\_\_\_\_\_

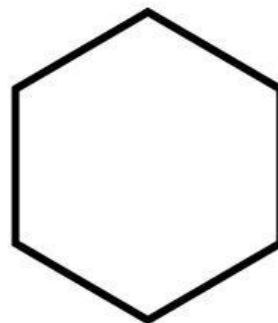


\_\_\_\_\_

**Sisi:**

**Sudut:**

\_\_\_\_\_



\_\_\_\_\_

**Sisi:**

**Sudut:**

\_\_\_\_\_



# Menempel Gambar Sesuai Bentuk Bangun Datar




## A. Petunjuk Pelaksanaan

1. Bacalah perintah pada LKPD dengan teliti.
2. Perhatikan empat kolom yang tersedia pada LKPD
3. Guru memberikan beberapa gambar kecil yang sudah disiapkan.
4. Amati setiap gambar dan perhatikan bentuk dasarnya.
5. Pilih gambar yang sesuai dengan bentuk bangun datar pada setiap kolom LKPD.
6. Tempelkan gambar pada kolom bangun datar yang benar
7. Periksa kembali apakah semua gambar sudah ditempel pada kolom yang tepat.
8. Serahkan LKPD yang sudah selesai kepada guru.


**Selamat Bekerja!**




Tempelkanlah gambar yang sesuai dengan  
bentuk bangun datar



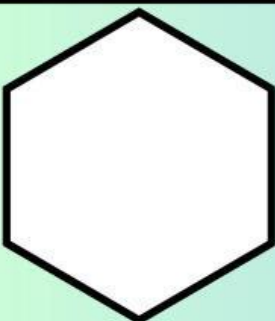
**Segitiga**



**Segiempat**



**Segilima**



**Segienam**

